



GOBIERNO REGIONAL DE LIMA
Dirección Regional de Educación

EVALUACIÓN
CENSAL
REGIONAL 2019



ECR DIAGNÓSTICA

MATEMÁTICA SEGUNDO GRADO DE PRIMARIA

2019



Institución Educativa

Apellidos y nombres

Grado y sección

Fecha

EVALUACIÓN CENSAL REGIONAL DIAGNÓSTICA 2019

INDICACIONES:

- Lee cada pregunta con mucha atención.
- Luego, resuelve la pregunta y marca ☒ la respuesta correcta.
- Solo debes marcar una respuesta por cada pregunta.

1

Lalo acomoda sus carritos:



Lalo quiere formar grupos de 10 carritos.

Cuenta y responde: **¿Cuántos grupos podrá formar?**

Ahora, marca ☒ la respuesta.

- ☐ a 3 grupos
- ☐ b 24 grupos
- ☐ c 2 grupos
- ☐ d 1 grupo

2 María tiene 6 muñecas y Lili tiene la mitad de muñecas que María:



Entonces, ¿cuántas muñecas tiene Lili?

Marca ☒ la respuesta.

- ☐ a Tiene 6 muñecas
- ☐ b Tiene 3 muñecas
- ☐ c Tiene 2 muñecas
- ☐ d Tiene 5 muñecas

3 La suma de 34 y 20 es:

Marca ☒ la respuesta.

- ☐ a 54
- ☐ b 50
- ☐ c 14
- ☐ d 36

4


Gustavo acomoda los objetos de la siguiente manera:



lápiz



borrador



libro



tajador

¿Cuál será el objeto más pesado?

Ahora, marca ☒ la respuesta.

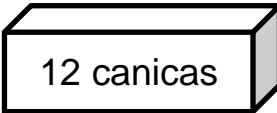
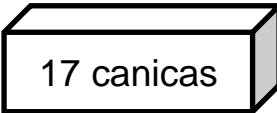
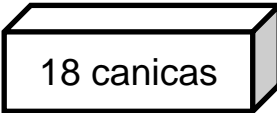
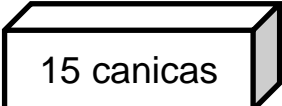
- ☐ a El tajador
- ☐ b El borrador
- ☐ c El lápiz
- ☐ d El libro

5

Camilo guarda canicas en diversas cajas.

¿Cuál de las siguientes cajas tiene más canicas?

Ahora, responde marcando ☒ la respuesta:

- ☐ a  12 canicas
- ☐ b  17 canicas
- ☐ c  18 canicas
- ☐ d  15 canicas



6

Sustraer:

| | |
|---|---|
| D | U |
| 2 | 5 |
| 1 | 3 |
| | |

—

¿Cuál es el resultado?

Marca ☒ la respuesta.

a 12

b 38

c 18

d 32

7

Paolo se ha comprado esta pelota:



10 soles

¿Cuál de los siguientes grupos de monedas ha utilizado Paolo para comprarse la pelota?

Marca ☒ la respuesta.

a



b



c




d



8

Observa la cantidad de naranjas que tienen Lola, Pepe y Ana:



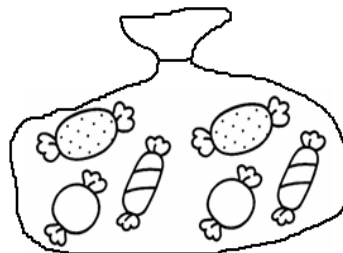
¿Cuál es la afirmación correcta?

Marca ☒ la respuesta.

- ☐ a Pepe tiene más naranjas que sus dos amigos.
- ☐ b Lola tiene menos naranjas que sus dos amigos.
- ☐ c Todos tienen igual cantidad de naranjas
- ☐ d Ana tiene más naranjas que sus dos amigos.

9

Luis tiene 6 caramelos:



Si Carlos tiene el doble de caramelos que Luis.

¿Cuántos caramelos tiene Carlos?

Marca ☒ la respuesta.

- ☐ a 6 caramelos
- ☐ b 3 caramelos
- ☐ c 12 caramelos
- ☐ d 8 caramelos

10

Pepe realiza muchas actividades durante la semana.

¿En cuál de las siguientes actividades utiliza la mayor cantidad de tiempo?

Marca ☒ la respuesta.

a



c



b



d



11

Kike tiene ahorrado:



Y se quiere comprar este carrito:



¿Cuántos soles más tiene que ahorrar para comprarse el carrito?

Marca ☒ la respuesta.

a 10 soles

b 5 soles


c 25 soles

d 15 soles


12

Tito quiere canjear dos robots.

Si se canjea



por un



¿Cuántas pelotas necesita para el canje?

Marca ☒ la respuesta.

☐ a 3 pelotas

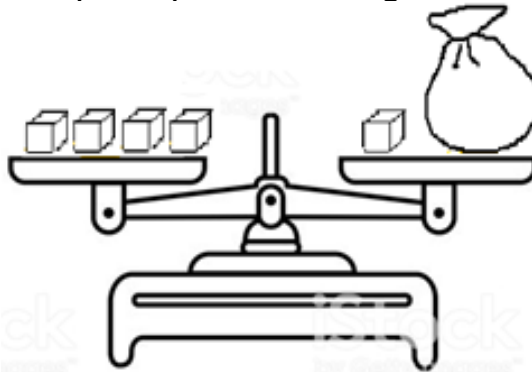
☐ b 2 pelotas

☐ c 6 pelotas

☐ d 9 pelotas

13

Luis utiliza la balanza para pesar los siguientes objetos:



Si la balanza está en equilibrio. **¿Cuántos cubitos tiene la bolsa?**

Marca ☒ la respuesta.

☐ a 4 cubitos

☐ b 5 cubitos

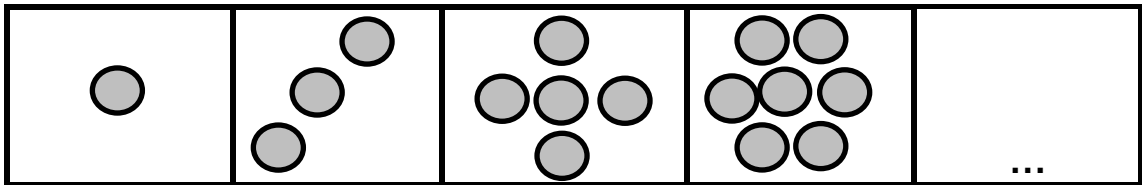
☐ c 2 cubitos

☐ d 3 cubitos



14

Carlos juega y acomoda sus fichas de la siguiente manera:




¿Cuántas  debe tener el último cajón?

Marca ☒ la respuesta.

- ☐ a 8 fichas
- ☐ b 7 fichas
- ☐ c 9 fichas
- ☐ d 10 fichas

15

Observa los siguientes bloques:



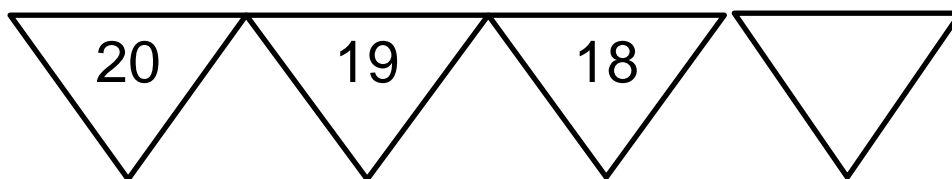
¿Qué número falta en el bloque?

Marca ☒ la respuesta.

- ☐ a 20
- ☐ b 18
- ☐ c 14
- ☐ d 21



16 Observa la siguiente secuencia de números:



¿Qué número falta?

Marca ☒ la respuesta.

☐ a 17

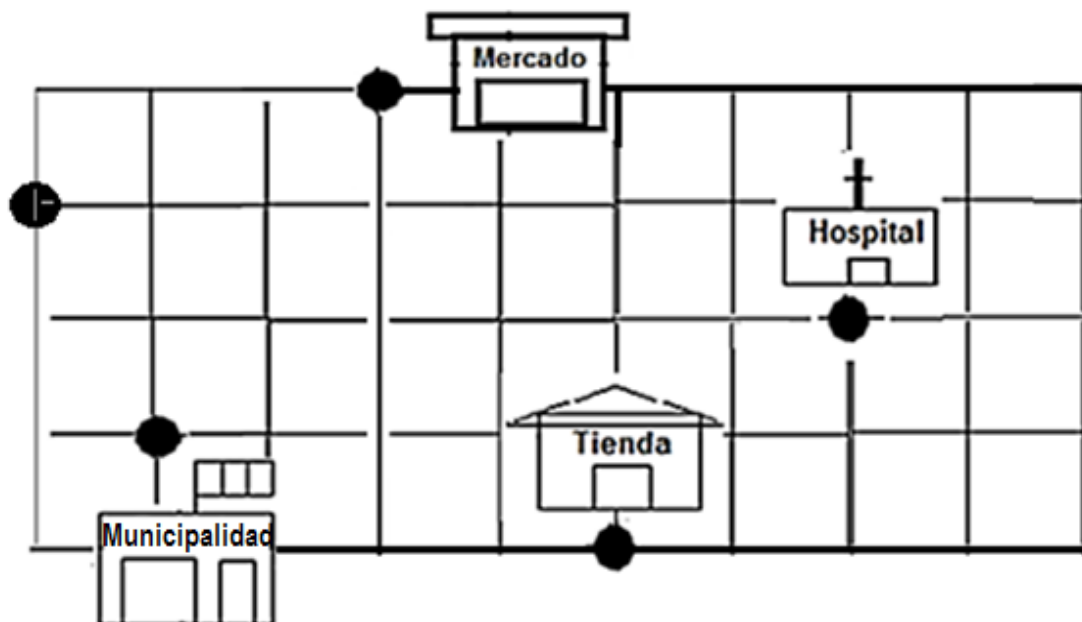
☐ c 16

☐ b 19

☐ d 20

17 Luego de salir de la escuela, Lola sigue este camino:

4 → 1↓ 3 →



¿A cuál de los siguientes lugares llegará Lola?

Marca ☒ la respuesta.

☐ a Municipalidad

☐ c Mercado

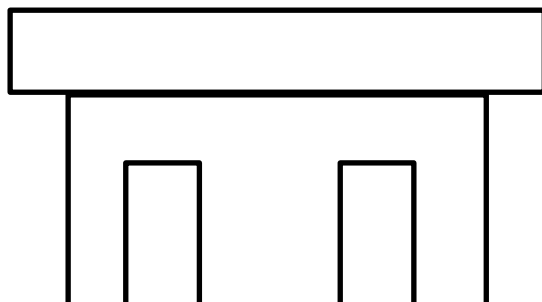
☐ b Hospital

☐ d Tienda



18

Eduardo juega con sus bloques y construye una casita:



¿Qué forma tienen los bloques que utilizó Eduardo?

Marca ☒ la respuesta.

- ☐ a La forma de un cuadrado.
- ☐ b La forma de un triángulo.
- ☐ c La forma de un rectángulo.
- ☐ d La forma de un círculo.

19

Luis acomoda sus útiles escolares:









¿Cuál de las siguientes situaciones puede suceder?

Marca ☒ la respuesta.

- ☐ a Es imposible que encuentre un lápiz.
- ☐ b Es posible que encuentre una pelota.
- ☐ c Es imposible que encuentre sus colores.
- ☐ d Es posible que encuentre una goma.

20

Observa la siguiente información acerca de la venta de carritos en una juguetería:

| Días de la semana | Cantidad de carritos vendidos |
|-------------------|--|
| lunes |    |
| martes |      |
| miércoles |       |
| jueves |     |

Un  representa 1 carrito vendido.

¿Cuál es el día que venden menos carritos en la juguetería?

Marca ☒ la respuesta.

- ☐ a) jueves
- ☐ b) lunes
- ☐ c) miércoles
- ☐ d) martes



**VISITA NUESTRA WEB
Y DESCARGA GRATIS
MATERIALES PARA MAESTROS**

<https://actualizate360.blogspot.com>