

MODUL JUJ TINGKATAN 4

BAHAGIAN A

UNIT 1 : PENGENALAN KEPADA EKONOMI

1. Lengkapkan pernyataan di bawah.





(a)Unit ekonomi: _____

(b)Kekurangan: _____

(c)Pilihan _____ :

(d)Kos lepas: _____

2. Lengkapkan jadual di bawah.

Ciri -ciri		
(a) Pengeluar		
(b) Bayaran		
(c) Kos lepas		
(d) Pengecualian penggunaan		
(a) Penawaran		

3. Berdasarkan pernyataan diberi, nyatakan masalah asas ekonomi yang berkaitan.

Pernyataan	Masalah Asas Ekonomi
(a) Merujuk kepada jumlah barang yang hendak dikeluarkan	
(b) Berkaitan dengan corak pengagihan barang	
(c) Merujuk kepada teknik pengeluaran yang digunakan	
(d) Berkaitan dengan jenis barang yang hendak dikeluarkan	

4. Berdasarkan pernyataan di bawah, nyatakan masalah asas ekonomi yang dihadapi.

- (a) Syarikat Awana menggunakan mesin berteknologi tinggi untuk meningkatkan daya pengeluaran : _____
- (b) Kerajaan mengeluarkan barang awam untuk digunakan oleh semua golongan masyarakat : _____
- (c) Permintaan terhadap komputer meningkat : _____
- (d) Sebanyak 2000 pasang kasut dikeluarkan pada bulan Mac : _____

5. Bagaimanakah Sistem Ekonomi Campuran menyelesaikan masalah asas ekonominya dari segi

- (a) Apa barang dan perkhidmatan yang hendak dikeluarkan.

- (b) Berapa barang dan perkhidmatan yang hendak dikeluarkan

- (c) Bagaimana barang dan perkhidmatan hendak dikeluarkan

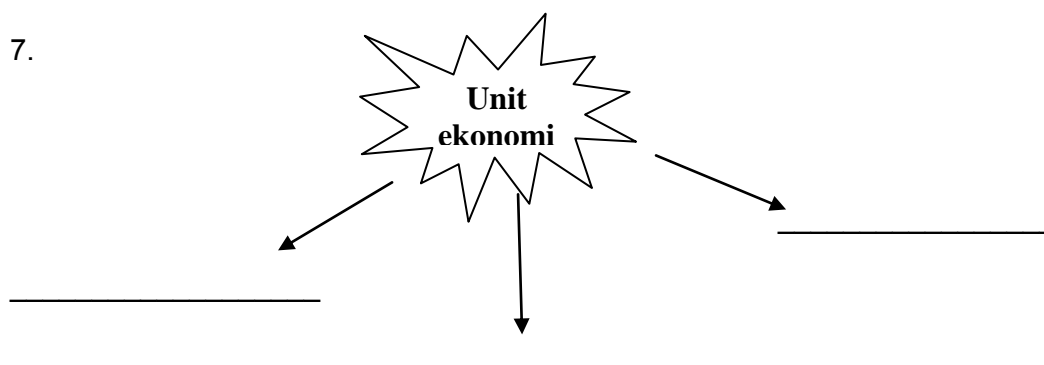
- (d) Untuk siapa barang dan perkhidmatan hendak dikeluarkan

6. Maklumat yang berikut merujuk kepada ciri sistem ekonomi di Negara X dan Negara Y.

Negara X Jenis barang yang hendak dikeluarkan ditentukan melalui mekanisme harga	Negara Y Jenis barang yang hendak dikeluarkan ditentukan oleh kerajaan
--	--

Ciri-ciri	Negara X	Negara Y
(a) Pemilikan sumber		
(b) Persaingan		
(c) Penentu harga		
(d) Motif		
(e) Pembuat keputusan		

7.



Contoh soalan SPM 2007



Gambar 1

- (a) Gambar 1 menunjukkan perbualan antara seorang bapa dengan anaknya. Terangkan masalah ekonomi yang dihadapi oleh keluarga itu. [6 markah]

SPM 2008

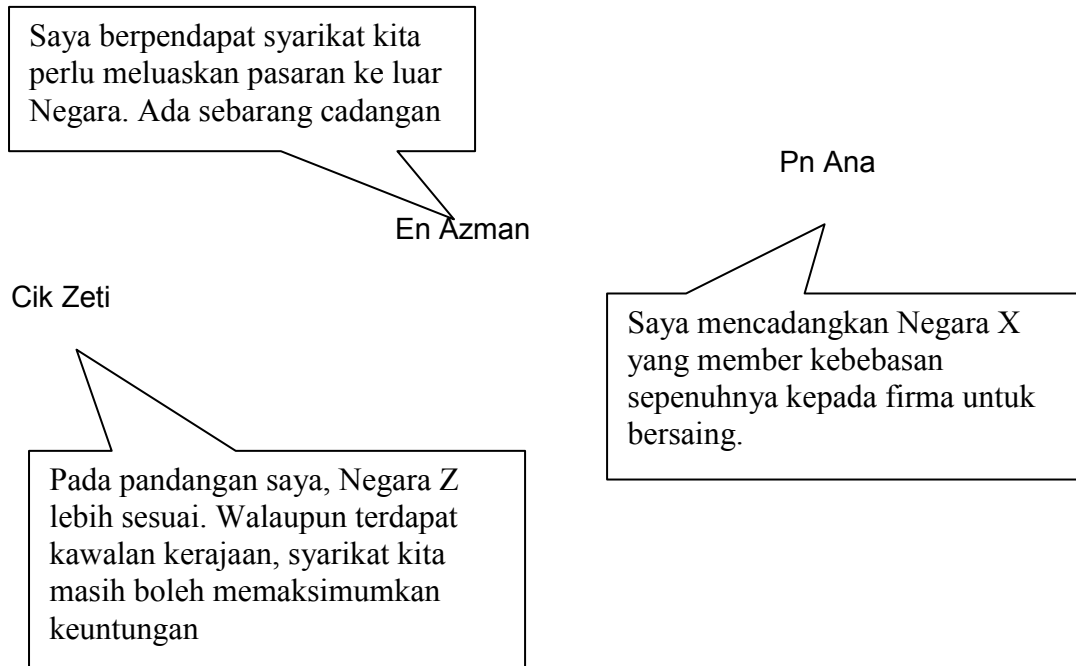
- 1 (c) Maklumat berikut berkaitan dengan masalah asas ekonomi bagi sebuah syarikat.

Syarikat Perumahan Mutiara Sdn Bhd merancang untuk membina rumah teres setingkat dengan menggunakan intensif buruh

- Terangkan masalah asas ekonomi yang belum diselesaikan oleh syarikat tersebut. [4 markah]

SPM 2009

- (d) Gambar 2 menunjukkan perbincangan yang berkaitan dengan cadangan untuk menubuhkan cawangan baru syarikat.



- (i) Namakan sistem ekonomi Negara X dan Negara Z. [2 markah]
 (ii) Bezakan tiga ciri sistem ekonomi yang diamalkan oleh kedua-dua negara tersebut. [6 markah]

Contoh Soalan Kertas 1
SPM 2007

1. Ilmu ekonomi mengkaji bagaimana manusia menggunakan sumber ekonomi yang

- A terhad untuk memenuhi kehendak yang terhad
 B tidak terhad untuk memenuhi kehendak yang terhad
 C terhad untuk memenuhi kehendak yang tidak terhad
 D tidak terhad untuk memenuhi kehendak yang tidak terhad

2. Pernyataan berikut berkaitan dengan satu masalah ekonomi

Kekurangan faktor pengeluaran mewujudkan pilihan

Matlamat pilihan tersebut dibuat untuk memaksimumkan

- A keluaran
 B kepuasan
 C kebajikan
 D keuntungan

Soalan Tambahan

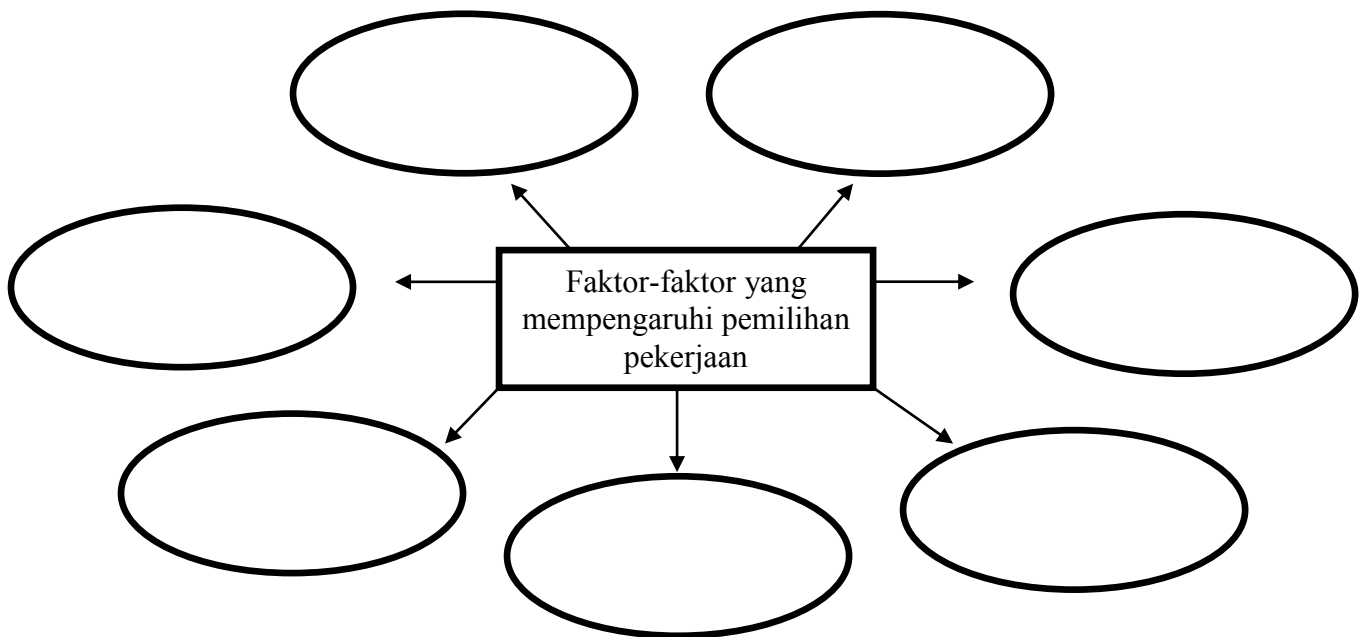
Encik Suhaimi telah dihantar oleh syarikatnya, Syarikat Tangkai Jering Berhad ke negara S untuk suatu tugas. Encik Suhaimi perlu membuat laporan tentang produk A atau produk B lebih digemari oleh penduduk negara S. Laporan yang dibuat oleh Encik Suhaimi akan menentukan jenis keluaran syarikatnya untuk dua tahun akan datang. Beliau dapati taraf hidup dan kuasa beli penduduk di negara S sangat tinggi. Mereka bebas memiliki barang yang diminati. Keadaan ini berbeza di negara Encik Suhaimi kerana dalam hal-hal tertentu kerajaan masih perlu memainkan peranannya. Setelah seminggu membuat pemerhatian, Encik Suhaimi mencadangkan agar syarikatnya mengeluarkan produk B kerana permintaannya lebih tinggi berbanding produk A. Pilihan ini menjamin keuntungan yang lebih tinggi.

Berdasarkan petikan di atas, jawab soalan berikut:

- (a) Apakah sistem ekonomi yang diamalkan oleh negara S dan negara Encik Suhaimi? (2 markah)
- (b) Berikan **tiga** perbezaan antara dua sistem ekonomi dalam (a) di atas. (6 markah)
- (c) Terangkan masalah ekonomi yang dihadapi oleh Syarikat Tangkai Jering Berhad? (6 markah)
- (d) Nyatakan **tiga** ciri produk B. (3 markah)
- (e) Apakah masalah asas ekonomi yang dihadapi oleh Syarikat Tangkai Jering Berhad dan bagaimanakah ia mengatasinya? (8 markah)

BAB 2 : PENDAPATAN DAN PENGGUNAAN PENDAPATAN INDIVIDU

1. Lengkapkan rajah berikut.



2. Lengkapkan formula **pendapatan individu**

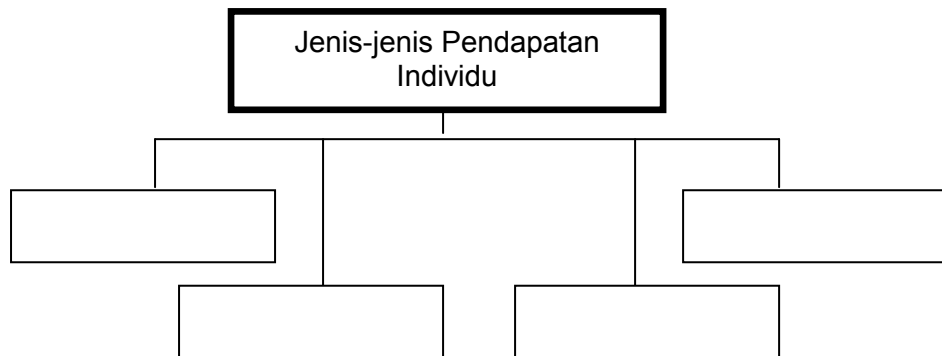
Bil	Pendapatan Individu	Formula Pengiraan
1.	Upah benar	
2.	Faedah	
3.	Untung	

3. Nyatakan sektor ekonomi yang terlibat bagi jenis-jenis pekerjaan berikut.

Jenis pekerjaan	Sektor ekonomi
Penternak mutiara	
Pramusaji	
Jurugegas	

4. Apakah yang dimaksudkan dengan bayaran pindahan?

5. Lengkapkan rajah di bawah.



6. Pengiraan Cukai Pendapatan Perseorangan.

Encik Musa seorang pegawai yang bekerja di syarikat swasta. Gaji bulananannya ialah RM 5 000.00. Beliau memiliki rumah sewa yang disewa RM 500.00 sebulan. Isteri beliau tidak bekerja dan mempunyai empat orang anak yang bersekolah. Encik Musa membayar zakat RM 100.00 sebulan dan 11% dari gajinya di carum ke KWSP. Baru-baru ini beliau telah membayar RM 3 000 bagi rawatan ibunya di hospital. Beliau juga mengambil insuran pendidikan untuk anaknya berjumlah RM 4 000.00 setahun.

Hitungkan cukai pendapatan Encik Musa berdasarkan kadar cukai di bawah

Kadar cukai seperti berikut;

RM 2 500 yang pertama	0%
RM 2 500 yang kedua	1%
RM 5 000 yang berikutnya	3%
RM 10 000 yang berikutnya	5%
RM 10 000 yang kedua	7%

1	<u>JUMLAH PENDAPATAN</u>		
	a) Gaji	RM.....	
	b) Sewa	RM.....	
			RM.....
2	<u>TOLAK : PELEPASAN CUKAI</u>		
	a) Diri Sendiri	RM.....	
	b) Isteri	RM.....	
	c) Anak	RM.....	
	d) Perubatan ibu bapa	RM.....	
	e) KWSP	RM.....	
	f) Insuran Pendidikan	RM.....	
		RM.....	
3	<u>PENDAPATAN KENA CUKAI</u> (RM..... - RM.....)	RM.....	

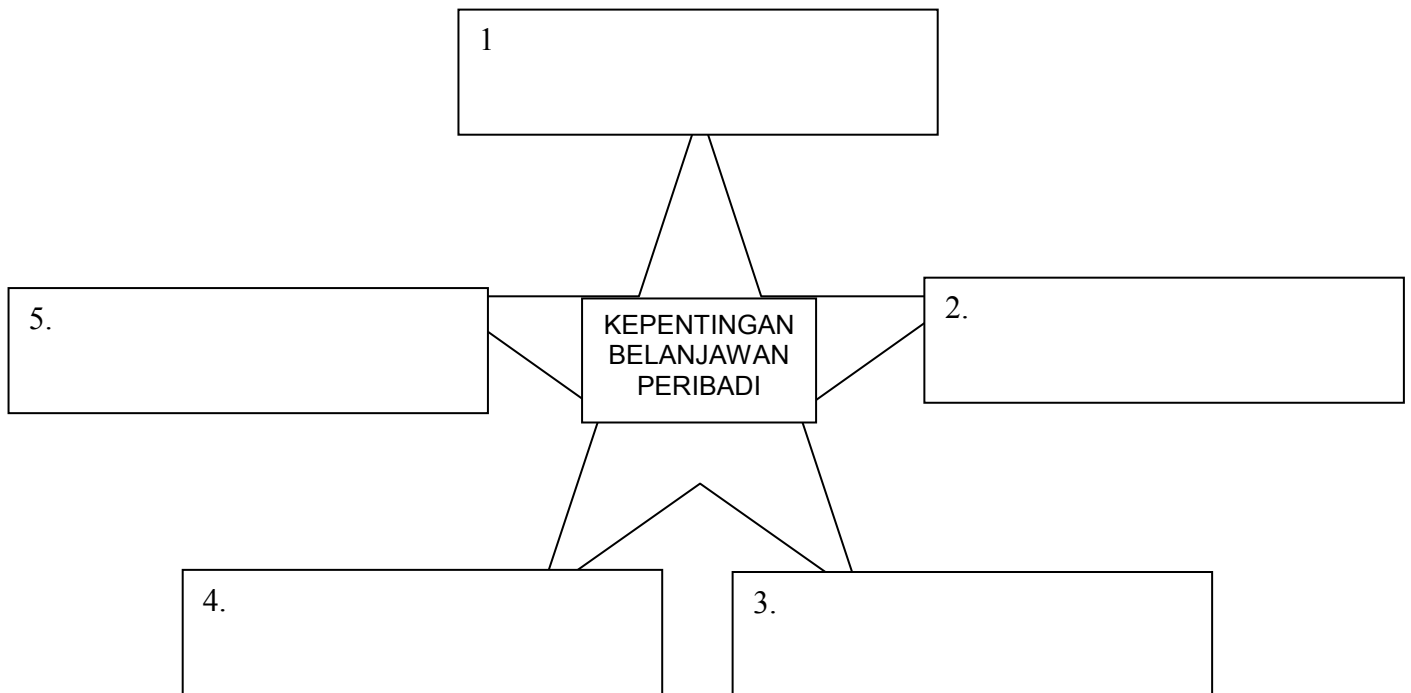
4	<u>PENGIRAAN CUKAI</u> RM 2 500 yang pertama RM 2 500 yang kedua RM 5 000 yang berikutnya RM 10 000 yang pertama RM 10 000 yang kedua <u>JUMLAH CUKAI PENDAPATAN</u> 	RM..... RM..... RM..... RM..... RM..... 	
5	<u>TOLAK REBAT</u> 	RM..... 	
6	<u>JUMLAH CUKAI PERLU BAYAR</u> 	RM..... 	RM.....

7. Lengkapkan rajah di bawah

LANGKAH-LANGKAH MENYEDIAKAN
BELANJAWAN PERIBADI

1	
2	
3	
4	
5	
6	

8. Mengapakah seseorang individu perlu membuat belanjawan peribadi?



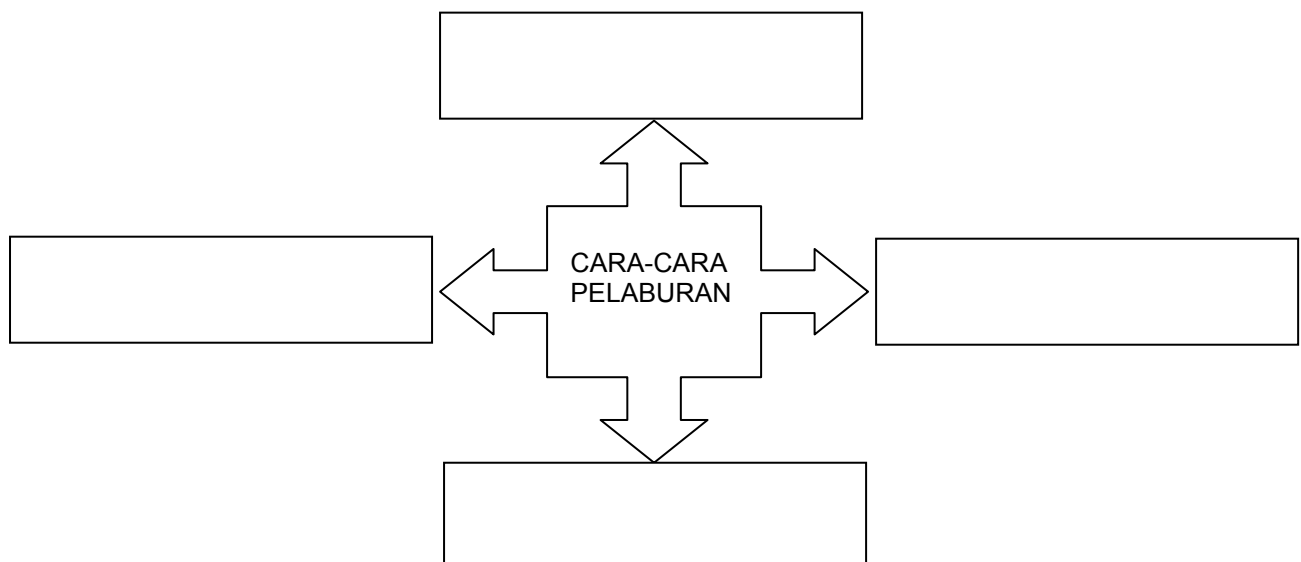
9. Apakah yang dimaksudkan dengan pendapatan boleh guna?

10. Puan Zakiah menyimpan wang sebanyak RM35 000 dalam akaun tetap di CIMB Bank Berhad pada 6 Januari 2010 dan berakhir pada 30 September 2010. Jika kadar faedah bank ini ialah 3.5% setahun, berapakah jumlah faedah yang diterima oleh Puan Zakiah pada 30 September 2010?

11. Bezakan keperluan asas dengan kehendak individu

	Keperluan asas	Kehendak individu
(i)		
(ii)		
(iii)		
(iv)		

12. Lengkapkan rajah di bawah berkaitan dengan cara-cara pelaburan.



Contoh soalan SPM 2008

2(a) Perbualan berikut tentang kerjaya dua orang sahabat.

Jamal : Arief...Aku bangga engkau menjadi petani yang berjaya.

Arief : Engkau pun apa kurangnya...Jadi pegawai bank.

Bezakan kerjaya yang dipilih oleh Jamal dan Arief berdasarkan faktor pemilihan pekerjaan. (6 markah)

Contoh Soalan Kertas 1

SPM 2007

1. Jadual 1 menunjukkan peratus pekerjaan penduduk di daerah Sri Maju.

Pekerjaan	Peratus (%)
Ejen insurans	10
Penternak	25
Tentera	20
Juruteknik kilang	15
Pembantu kedai	30

Jadual 1

Berapakah peratus penduduk yang terlibat dalam sektor ketiga?

- A 30%
- B 40%
- C 55%
- D 60%

2. Jadual 2 menunjukkan pendapatan dan perbelanjaan Encik Zaki bagi bulan April.

Butiran	RM
Upah	2 500
Makanan dan minimum	800
Bonus	1 200
Dividen	100
Premium insurans	200

Jadual 2

Berapakah jumlah pendapatan Encik Zaki?

- A RM 4 000
- B RM 3 800
- C RM 3 700
- D RM 2 500

Contoh Soalan 2010

Jadual di bawah menunjukkan upah wang dan harga dua jenis barang pada tahun 2007 dan 2009

Tahun	Upah wang (RM)	Harga Barang (RM)	
		Barang x	Barang Y
2007	4 000	100	300
2009	5 000	100	400

- i) Hitungkan
 - a) Harga purata barang pada tahun 2007 (2 markah)
 - b) Upah benar pada tahun 2009 (2 markah)
- ii) Jelaskan keadaan upah benar pada kedua-dua tahun tersebut (2 markah)
- d) Terangkan tiga potongan wajib dalam pendapatan bolehguna (6 markah)

Soalan Tambahan

Encik Ali telah berkahwin dan mempunyai tiga orang anak. Dia bekerja sebagai seorang kerani dalam sebuah kilang pemprosesan makanan. Gaji dan elaun tahunan Encik Ali ialah RM 22000. Daripada jumlah pendapatan itu, dia mencarumkan RM2420 kepada KWSP dan RM1110 untuk PERKESO. Dalam masa setahun, dia juga membayar RM50 untuk cukai pendapatan dan RM40 untuk zakat.

Encik Ali seorang pengguna yang bijaksana. Setiap bulan dia membuat perbelanjaan dengan wajar supaya tidak melebihi pendapatannya. Perbelanjaan tetap bulanan Encik Ali terdiri daripada Insuran kereta sebanyak RM 500 dan kadar bayaran RM 120 perbelanjaan bulanan lain. Encik Ali termasuk perbelanjaan harian RM 800 dan perbelanjaan kecemasan RM 100. Baki pendapatan bulanan Encik Ali adalah untuk tabungan. Kebanyakan daripada tabungan Encik Ali adalah dalam bentuk unit amanah, kerana dia yakin tabungan dalam bentuk unit amanah boleh mendapat pulangan yang lebih tinggi daripada bentuk tabungan yang lain.

Pada tahun depan, Encik Ali bercadang untuk menukar pekerjaan ke Bank Simpanan Nasional. Encik Ali berpendapat gaji yang diterimanya sekarang adalah tidak mampu untuk menampung segala perbelanjaannya pada masa kelak terutamanya apabila anaknya mula bersekolah.

Berdasarkan situasi di atas, jawab soalan-soalan berikut.

- a) Hitungkan pendapatan boleh guna Encik Ali? (4 Markah)
- b) i. Sekiranya Encik Ali ingin membuat belanjawan peribadi, terangkan kepada Encik Ali langkah-langkah yang perlu diambil oleh beliau (4 markah)
- ii. Sediakan satu contoh belanjawan peribadi (4 markah)
- iii. Selain unit amanah, terangkan jenis-jenis tabungan yang boleh dibuat oleh Encik Ali. (6 markah)
- c) i. Nyatakan sektor ekonomi yang terlibat oleh Encik Ali sebelum dan selepas beliau menukar pekerjaannya (2 markah)
- ii. Selain faktor upah, sebutkan empat faktor lain yang perlu Encik Ali pertimbangkan sebelum tukar pekerjaannya. (2 markah)
- d) Apakah masalah ekonomi yang dihadapi oleh Encik Ali? (3 markah)

UNIT 3 : ISI RUMAH SEBAGAI PENGGUNA

1. Lengkapkan jadual isi rumah di bawah


ISI RUMAH	<u>KONSEP ISI RUMAH</u> a) b) c)
	<u>PERANAN ISI RUMAH</u> a) b)
	<u>OBJEKTIF ISI RUMAH</u> a) Maksud Utiliti:..... Maksud Jumlah Utiliti :.....

2. Apakah yang dimaksudkan dengan permintaan berkesan?

3 i) Lukis keluk permintaan berdasarkan jadual permintaan di bawah

HARGA (RM)	KUANTITI	TITIK
2	5	a
4	10	b
6	15	c
8	20	d
10	25	e

Gunakan skala 1 cm : 4 unit pada paksi harga dan 1 cm : 3 unit pada paksi kuantiti

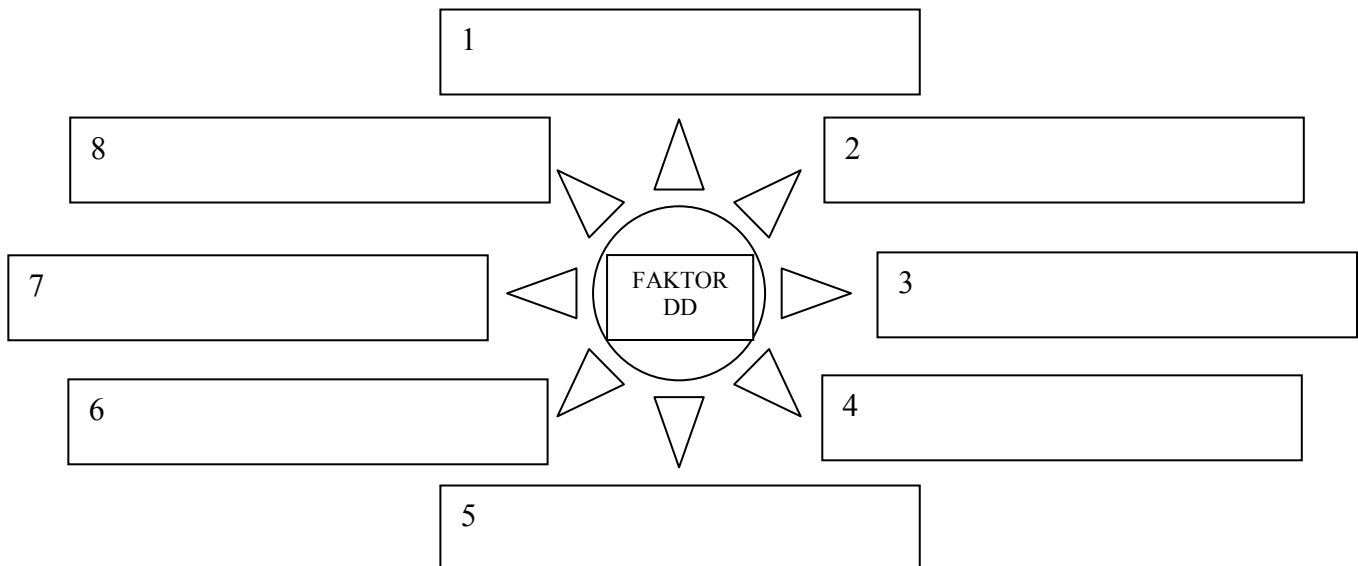


3 ii) Nyatakan ciri-ciri keluk permintaan.

a).....

b).....

4. Lengkapkan jadual di bawah dengan faktor-faktor permintaan (DD)



5. Nyatakan sama ada pernyataan di bawah menunjukkan hubungan barang pengganti atau barang penggenap.

a. Permintaan terhadap barang M meningkat apabila harga barang N meningkat.	
b. Permintaan terhadap barang A akan meningkat apabila harga barang B jatuh.	
c. Apabila harga X jatuh, permintaan terhadap barang Y juga jatuh.	
d. Kejatuhan harga barang T telah meningkatkan permintaan barang S	

6. Keanjalan permintaan harga ditakrifkan sebagai

7. Terangkan maksud jenis-jenis keanjalan harga permintaan berikut:

(i) Anjal :

(ii) Tidak anjal :

(iii) Anjal uniti :

8. Hitungkan keanjalan harga permintaan bagi ketiga-tiga jenis barangan yang berikut apabila harga menurun daripada RM 12 kepada RM 10.

Harga (RM)	Kuantiti diminta oleh seseorang pengguna(unit)		
	X	Y	Z
12	60	60	70
10	70	65	80

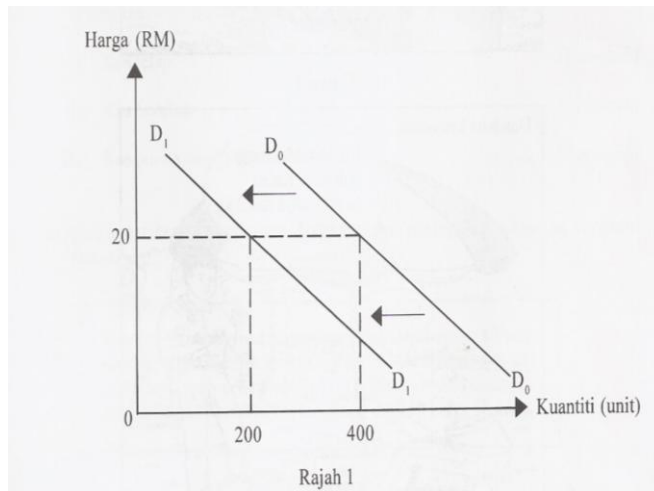
Barang X =

Barang Y =

Barang Z =

Contoh soalan SPM 2007

3 a) Rajah 1 menunjukkan peralihan keluk permintaan kopi.



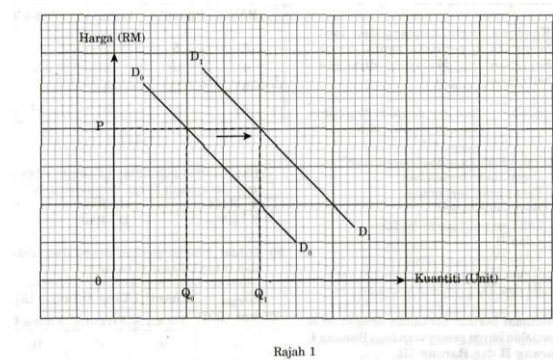
a) Terangkan tiga faktor yang menyebabkan peralihan keluk tersebut.

[6 markah]

Contoh Soalan Kertas 1

SPM 2008

1. Rajah 1 menunjukkan peralihan keluk permintaan sesuatu barang



Apakah faktor yang menyebabkan keluk permintaan beralih dari D_0D_0 ke D_1 ?

- I Kenaikan harga barang pengganti
- II Penurunan pendapatan pengguna
- III Jangkaan harga akan turun pada masa depan
- IV Penurunan kadar cukai pendapatan perseorangan
- A I dan II
- B I dan IV
- C II dan III
- D III dan IV

2. Jadual 1 menunjukkan harga dan kuantiti diminta bagi suatu barang.

Harga (RM)	Kuantiti Diminta (Unit)
10	5
20	4

Jadual 1

Berapakah keanjalan harga permintaan jika harga berubah daripada RM 10 kepada RM 20?

- A 0.20
- B 0.25
- C 0.40
- D 0.50

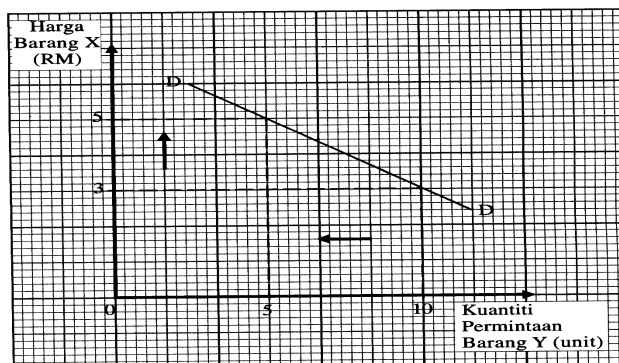
Contoh Soalan 2010

SULIT

4

3757/2

- 2 (a) Jelaskan konsep isi rumah. [5 markah]
- (b) Rajah di bawah menunjukkan hubungan antara harga Barang X dengan kuantiti permintaan Barang Y.



- (i) Apakah kaitan antara Barang X dengan Barang Y? [1 markah]
- (ii) Jelaskan hubungan antara harga Barang X dengan kuantiti permintaan Barang Y. [4 markah]

Soalan Tambahan

Isu-isu Semasa Berkaitan Dengan Ekonomi Negara

Isu 1 – Kakitangan kerajaan akan menerima bonus dua bulan gaji dalam Belanjawan Negara pada tahun ini. Bonus yang diberikan merupakan penghargaan kerajaan kepada kakitangannya yang bertungkus lumus menaikkan nama jabatan masing-masing. Dengan bonus yang diterima diharapkan dapat digunakan bukan sahaja untuk perayaan tetapi juga untuk perbelanjaan persekolahan anak-anak dan perbelanjaan lain.

Isu 2 – Kerajaan berjanji kenaikan harga minyak 20 sen seliter tidak akan mempengaruhi kenaikan harga barang keperluan lain. Tindakan akan diambil kepada mana-mana pengeluar, pengusaha dan peniaga yang cuba mengambil kesempatan kenaikan harga barangan akibat kenaikan harga minyak ini. Diharapkan juga pihak swasta, peniaga dan orang persendirian dapat membantu kerajaan dalam merealisasikan hasrat murninya ini.

Isu 3- Kerajaan akan memantau pengeluaran ayam agar dapat memenuhi permintaan yang tinggi menjelang perayaan hari raya dan Tahun Baru Cina yang akan menjelang tiba. Pengeluar-pengeluar ayam diminta jangan menaikkan harga ayam kerana permintaan yang tinggi cukup bagi pengeluar mengaut keuntungan.

Berdasarkan situasi di atas, jawab soalan berikut.

- a) Apakah yang akan terjadi terhadap permintaan barangan apabila kerajaan memberikan bonus dua bulan gaji kepada kakitangan kerajaan? (6 markah)
- b) Terangkan kesan kenaikan harga minyak 20 sen seliter terhadap
 - i. Permintaan kereta (4 markah)
 - ii. Permintaan biofuel (4 markah)
- c) i. Selain daripada harga barang itu sendiri dan musim perayaan, Nyatakan faktor lain yang menyebabkan permintaan ayam meningkat. (6 markah)
- ii. Tunjukkan satu contoh bagaimana keuntungan penternak ayam dikira. (5 markah)

UNIT 4 : FIRMA SEBAGAI PENGELUAR

1. Huraikan konsep-konsep yang berikut:

a. Input

b. Output

c. Pengeluaran

d. Jangka pendek

e. Jangka panjang

f. Firma

g. Input berubah

h. Input tetap

i. Keluaran purata

j. Keluaran sut

2. Bezakan antara pengeluaran jangka pendek dengan pengeluaran jangka panjang.

Pengeluaran jangka pendek	Pengeluaran jangka panjang

3. Jadual di bawah menunjukkan hubungan antara peratus perubahan harga dengan peratus perubahan kuantiti penawaran untuk lima jenis barang

Barang	% perubahan harga	% perubahan kuantiti
Pakaian	8	24
Telefon bimbit	15	45
Jam tangan	30	20
Gula	15	2
Kereta	30	30

Namakan barang yang mempunyai keanjalan harga penawaran:

- (a) Anjal satu : _____
- (b) Anjal : _____
- (c) Tidak anjal : _____

4. Lengkapkan ruangan kosong di bawah:

Barang	% perubahan harga	% perubahan kuantiti	Keanjalan harga penawaran (Es)
S	15	45	
T	20	2	
U	35		1
V		18	9

5. Bezakan antara kos tetap dengan kos berubah

Kos tetap	Kos berubah

6. Berdasarkan senarai di bawah, lengkapkan jadual kos tetap dan kos berubah bagi sebuah firma.

Sewa tanah Bil elektrik	Gaji pekerja Insurans	Kos bahan mentah Bayaran balik pinjaman bank	Gaji pengurus
Kos tetap		Kos berubah	

7. Maklumat di bawah berkaitan dengan kos pengeluaran sebuah firma.

Jumlah kos =RM 1000	Kos berubah =RM450	Jumlah keluaran = 50 unit
---------------------	--------------------	---------------------------

Hitungkan:

Kos Tetap	Kos Purata

8. Jadual di bawah menunjukkan jumlah keluaran dengan kos berubah sebuah firma.

Keluaran	Kos berubah
20	35
30	40
40	55

Jika kos tetap firma ini ialah RM 100, hitungkan:

- a) Jumlah kos pada keluaran ke-30

- b) Kos purata pada keluaran ke-20

- c) Kos sut pada keluaran ke-40

9. Lengkapkan jadual di bawah.

Tanah (hektar)	Buruh (orang)	Jumlah keluaran (unit)	Keluaran sut (unit)	Keluaran purata (unit)
200	0	0	-	-
	1	10		
	2			10.5
200	3			11
	4		13	
	5		9	
	6	60		

10. Jadual di bawah menunjukkan harga dan kuantiti barang L yang ditawarkan.

Harga(RM)	Kuantiti yang ditawarkan(unit)
10	20
12	30
14	35

Hitungkan keanjalan harga penawaran jika:

(a) Harga meningkat daripada RM 10 kepada RM 12

(b) Harga menurun daripada RM 14 kepada RM 10

11. Berikut ialah jadual penawaran sebuah firma untuk sejenis barang.

Harga (RM)	Kuantiti ditawar(unit)
2	100
4	200
6	300
8	400
10	500

(a) Dengan menggunakan skala 2 cm : RM 2 pada paksi harga dan skala 2 cm : 100 unit pada paksi kuantiti ditawarkan, lukiskan keluk penawaran firma tersebut.

[4 markah]

(b) Terangkan pembentukan keluk penawaran firma yang anda lukis di (a)

[4 markah]

12. Huraikan faktor-faktor yang mempengaruhi perubahan penawaran

[8 markah]

Contoh SPM 2005

1. Jadual menunjukkan peratus perubahan harga dan peratus perubahan kuantiti di tawar bagi tiga jenis barang X, Y dan Z.

Jenis barang	Peratus perubahan harga	Peratus perubahan kuantiti ditawar
X	12	3
Y	8	32
Z	20	20

- (i) Berapakah keanjalan harga penawaran bagi barang X, Y dan Z?

[3 markah]

Gunakan rumus :

$$[\text{keanjalan harga penawaran} = \frac{\text{Peratus Perubahan Kuantiti Ditawar}}{\text{Peratus Perubahan Harga}}]$$

- (ii) Tafsirkan pekali keanjalan harga penawaran bagi barang X, Y dan Z

[6 markah]

SPM 2007

1. Jadual berikut menunjukkan butiran perbelanjaan Firma X yang mengeluarkan 200 000 unit syampu dalam masa enam bulan.

Butiran	RM
Bahan mentah	15 000.00
Gaji pekerja	45 000.00
Sewa kilang	12 000.00
Air dan elektrik	4 800.00
Insurans kilang	3 200.00

Hitung :

- (i) Kos tetap

[2markah]

- (ii) Kos berubah

[2markah]

- (iii) Kos purata bagi firma tersebut

[2markah]

SPM 2008

1. Jadual menunjukkan fungsi pengeluaran jangka pendek sebuah firma.

Bilangan buruh (orang)	Jumlah keluaran(unit)	Keluaran purata (unit)	Keluaran sut (unit)
0	0	-	-
1	10	10	10
2	22	11	12
3	36	12	14
4	49	12.25	13
5	54	10.80	5
6	58	9.67	4
7	58	8.28	0
8	54	6.75	-4

Jelaskan hubungan antara buruh dengan keluaran purata dan keluaran sut
[8 markah]

SPM 2010

1. Jadual di bawah menunjukkan kos pengeluaran jangka pendek sebuah firma

Output (unit)	Jumlah kos (RM)	Kos purata(RM)	Kos sut(RM)
0	100	-	-
1	150	150	50
2	190	95	P
3	210	70	20
4	240	Q	30
5	310	62	70
6	420	70	110

- (i) Berapakah nilai P dan Q [2 markah]
 (ii) Jelaskan hubungan antara output dengan kos purata dan kos sut pada tingkat output berikut:
 (a) Output 0 – 3 unit [3 markah]
 (b) Output 3 – 4 unit [3 markah]
 (c) Output 4 – 6 unit [2 markah]

Soalan Tambahan

Harga ayam telah meningkat daripada RM 6.20 sekilogram kepada RM 6.50 sekilogram bagi tempoh Ogos hingga November 2010 kerana musim perayaan. Kesannya penternak-penternak ayam bertindak menambahkan pengeluaran daripada 25 000 kilogram kepada 34 000 kilogram. Namun demikian persatuan pengguna telah membantah kenaikan harga tersebut dan menyeru orang ramai supaya memulaukan penggunaan ayam. Langkah ini dikritik oleh pihak kerajaan kerana boleh menyebabkan penternak-penternak ayam merasa bimbang dan bertindak mengurangkan pengeluaran ayam.

Berdasarkan situasi di atas, jawab soalan-soalan berikut:

- (a) Hitungkan keanjalan harga penawaran dan tafsirkan keanjalan tersebut.
[3 markah]
- (b) Nyatakan faktor-faktor yang dikemukakan dalam petikan di atas yang mempengaruhi penawaran ayam.
[4 markah]
- (c) Selain daripada faktor-faktor yang anda nyatakan dalam (b) , terangkan faktor lain yang mempengaruhi penawaran ayam.
[6 markah]

UNIT 5 : PASARAN

1. Terangkan konsep-konsep berikut:

(a)Pasaran

(b) Keseimbangan pasaran

(c) Lebihan penawaran

2. Jadual di bawah menunjukkan permintaan pasaran dan penawaran pasaran pada setiap harga tertentu.

(a) Lengkapkan jadual di bawah untuk ruangan keadaan pasaran.

Harga (RM)	Kuantiti permintaan pasaran (unit)	Kuantiti penawaran pasaran (unit)	Keadaan pasaran (Lebih DD/SS)
3	140	20	
6	120	40	
9	100	60	
12	80	80	
15	60	100	
18	40	120	

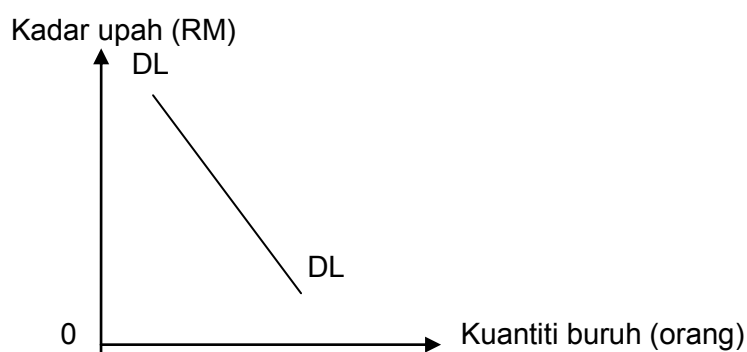
(b) Berdasarkan jadual di atas,

- i. Harga keseimbangan _____
- ii. Kuantiti keseimbangan _____
- iii. Hitungkan lebihan permintaan atau penawaran pada harga RM6:

- iv. Hitungkan lebihan permintaan atau penawaran pada harga RM18:

(c) Dengan menggunakan kertas graf, lukiskan keluk keseimbangan pasaran.

3. (a) Bagaimanakah upah ditentukan dalam pasaran buruh?



(b) Berdasarkan rajah di atas, huraikan ciri-ciri keluk permintaan buruh.

- (i) _____

- (ii) _____

- (iii) _____

4. Kesan lebih permintaan pasaran buruh.

(i) _____

(ii) _____

5. Lengkapkan jadual dibawah:

Kadar upah (RM)	Kuantiti buruh diminta	Kuantiti buruh ditawarkan	Keadaan	Kesan terhadap kadar upah
50	30	50		
60	40	40		
70	50	30		

6. (a) Berikan definisi pasaran modal

(b) Bagaimanakah kadar faedah ditentukan dalam pasaran modal?

7. Nyatakan peranan yang dimainkan oleh sektor berikut dalam aliran pusingan pendapatan ekonomi dua sektor.

(a) Isi rumah

(i) _____

(ii) _____

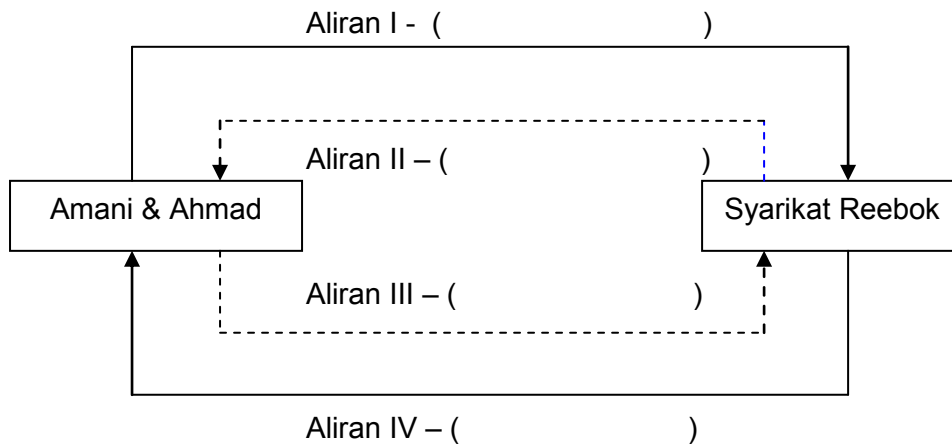
(b) Firma

(i) _____

(ii) _____

- (a) Syarikat Reedok mengeluarkan kasut sukan
- (b) Amani membeli 2 pasang kasut dengan harga RM50
- (c) Ahmad ialah suami Amani yang bekerja di Syarikat Reedok
- (d) Ahmad dibayar gaji sebanyak RM1500 sebulan.

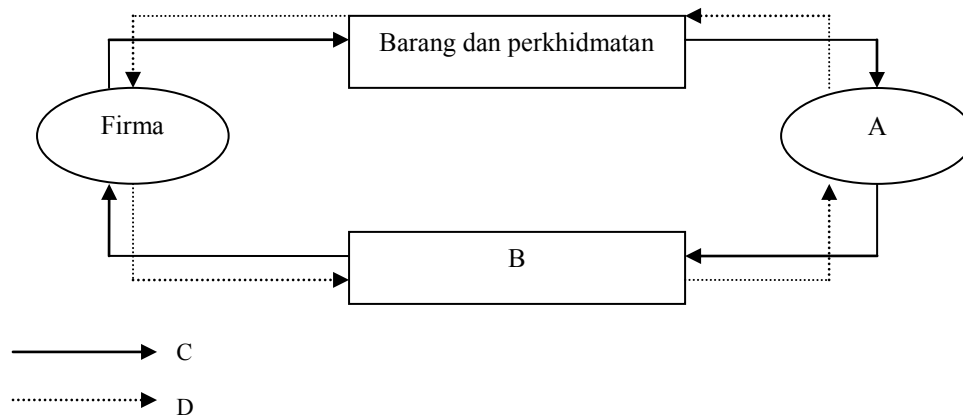
8. Berdasarkan maklumat di atas, lengkapkan rajah di bawah.



Petunjuk

- > Aliran Fizikal
- - - - -> Aliran Wang

9. Lengkapkan rajah di bawah.



- A : _____
- B : _____
- C : _____
- D : _____

Contoh soalan SPM 2008

3(c) Jadual 2 menunjukkan permintaan terhadap suatu barang.

Harga (RM)	Kuantiti Diminta (Unit)	
	Amani	Mokhtar
20	12	16
30	8	12
40	4	8

Jadual 2

- (i) Berapakah kuantiti permintaan pasaran pada tingkat harga RM30?
[1 markah]
- (ii) Lukiskan pembentukan keluk permintaan pasaran di atas kertas graf dengan menggunakan skala 2 cm : 8 unit pada paksi kuantiti dan skala 2cm : RM 10 pada paksi harga.
[8 markah]
- (iii) Jelaskan pembentukan keluk permintaan di 3(c)(ii).
[4 markah]

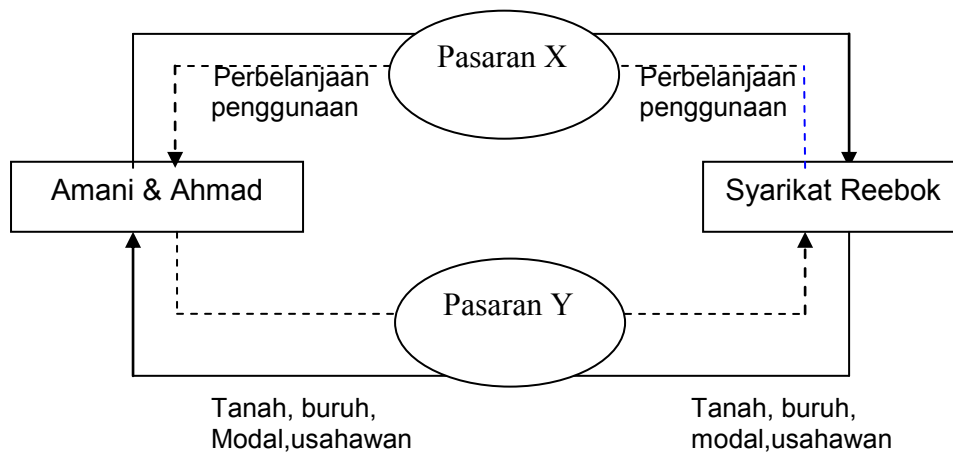
SPM 2009

3 (a) Jadual 2 menunjukkan kuantiti diminta bagi dua individu dan penawaran pasaran bagi suatu jenis barang.

Harga (RM)	Kuantiti Diminta (unit)		Penawaran Pasaran (unit)
	Individu A	Individu B	
2	30	45	45
4	20	Q	60
6	10	35	75

- (i) Hitung nilai Q jika harga keseimbangan ialah RM4. [2 markah]
- (ii) Huraikan keadaan pasaran pada tingkat harga RM2 [4 markah]

(b) Rajah 2 menunjukkan aliran pusingan pendapatan ekonomi dua sektor.



Rajah 2

- (i) Apakah Pasaran X dan Pasaran Y? [2 markah]
 (ii) Bezakan kedua-dua pasaran tersebut. [6 markah]

Contoh Soalan Kertas 1

SPM 2008

1. Maklumat berikut berkaitan dengan penentu penawaran ikan.

Keadaan angin kencang dan laut bergelora di perairan pantai timur Semenanjung Malaysia dijangka berterusan.

Sumber: Ubah suai daripada New Sabah Times, 31 Oktober 2006

Apakah kesan ke atas pasaran ikan?

- | | | | |
|------|-------------------------|---|------------|
| I. | Permintaan bertambah | | |
| II. | Penawaran berkurang | | |
| III. | Harga meningkat | | |
| IV. | Lebih penawaran berlaku | | |
| A | I dan II | C | II dan III |
| B | I dan IV | D | III dan IV |

2. Jadual 2 menunjukkan kuantiti beg yang ditawarkan oleh firma R, S dan T pada pelbagai tingkat harga.

Harga Beg (RM)	Kuantiti yang Ditawar (Unit)		
	Firma R	Firma S	Firma T
3	5	5	4
4	10	8	6
5	15	9	10
6	20	10	14

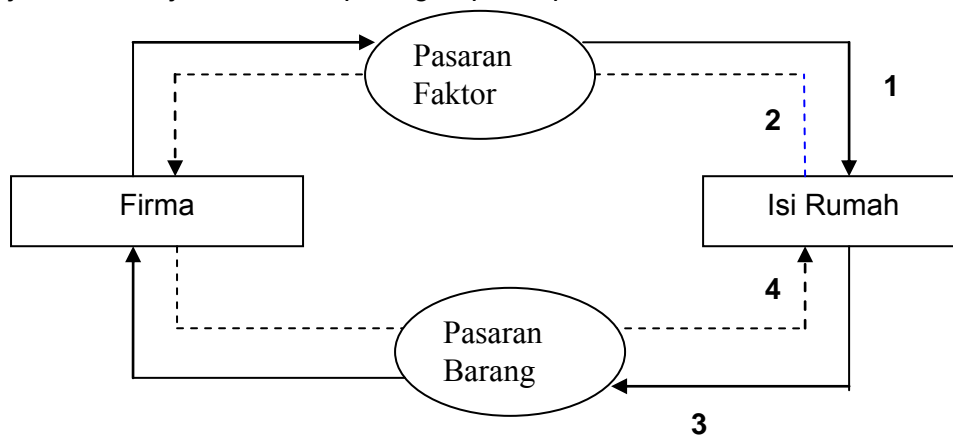
Jadual 2

Jika kuantiti permintaan pasaran ialah 34 unit, berapakah harga keseimbangan?

- | | |
|-------|-------|
| A RM3 | C RM5 |
| B RM4 | D RM6 |

SPM 2009

25. Rajah 6 menunjukkan aliran pusingan pendapatan.



Aliran yang manakah menunjukkan pembayaran faedah dan sewa?

- | | |
|-----|-----|
| A 1 | C 3 |
| B 2 | D 4 |

Soalan Tambahan

Syarikat Kasut Megah dan Syarikat Kasut Selesa merupakan pengeluar kasut sukan tempatan. Kedua-dua syarikat ini mengeluarkan kasut-kasut sukan mereka dalam jumlah yang berbeza-beza. Ini ditunjukkan melalui bilangan kasut sukan yang dikeluarkan pada harga dan masa tertentu seperti yang ditunjukkan oleh jadual berikut.

Harga kasut (RM)	Bilangan kasut yang dikeluarkan (pasang)	
	Syarikat Kasut Megah	Syarikat Kasut Selesa
75	300	500
85	450	550
100	550	750

Baru-baru ini, kedua-dua syarikat tersebut bercadang untuk bergabung bagi menguasai bekalan kasut sukan tempatan. Disamping itu, tindakan ini bertujuan untuk mengurangkan perbelanjaan terhadap gaji pekerja tempatan kedua-dua syarikat yang meningkat. Pihak pengurusan bersetuju untuk mengambil pekerja asing sebagai usaha untuk mengurangkan beban perbelanjaan bagi pengeluaran pada masa akan datang.

Berdasarkan situasi di atas, jawab soalan-soalan berikut:

- Bagaimanakah kedua-dua syarikat kasut di atas mengatasi masalah asas ekonomi yang dihadapinya? (8 markah)
- Kira jumlah penawaran pasaran bagi setiap harga kasut. (3 markah)
- Bagaimana wujudnya keseimbangan harga di pasaran kasut tersebut? (5 markah)
- Terangkan faktor penentu dalam mengeluarkan kasut bagi kedua-dua syarikat tersebut. (8 markah)



MODUL
PROJEK JAWAB UNTUK JAYA (JUJ)
NEGERI PAHANG
2011

EKONOMI ASAS
TINGKATAN LIMA

BAB SATU : WANG DAN INSTITUSI KEWANGAN

1. Wang ialah

Contoh wang : i) ii) Baht di Thailand

2. Gambar 1 dan Gambar 2 menunjukkan dua jenis wang yang terdapat dalam pasaran.



Gambar 1

Gambar 2

(i) Jenis wang yang ditunjukkan ialah:

Gambar 1 :

Gambar 2 :

(ii) Huraikan kedua-dua jenis wang tersebut:

Gambar 1:

i)

ii)

iii)

iv)

Gambar 2:

i)

ii)

iii)

iv)

3. Lima ciri wang yang baik ialah:

Bil	Ciri-ciri wang	Huraian
1	Tahan lama	Tidak mudah rosak
2		
3		
4		
5		

4. Puan Sabariah membeli televisyen plasma yang berharga RM 3 000.00 dan membayar wang pendahuluan sebanyak RM 600.00. Bakinya, Puan Sabariah membayar secara ansuran sebanyak RM 100.00 setiap bula selama dua tahun.

Huraikan fungsi wang yang terdapat dalam situasi di atas.

- i)
-
- ii)
-

5. Gambar berikut menunjukkan satu urus niaga yang berlaku dalam ekonomi.



a) Terangkan sistem yang diamalkan dalam urus niaga tersebut.

.....

.....

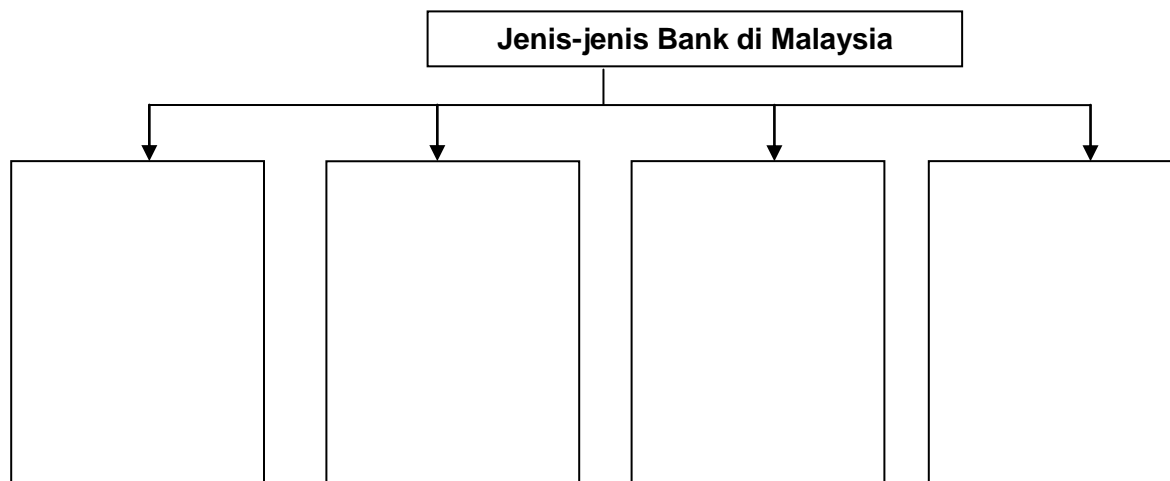
b) Huraikan **tiga** kelemahan sistem tersebut.

- i)
-
- ii)
-
- iii)
-

c) Terangkan tiga cara sistem wang mengatasi kelemahan yang terdapat dalam sistem tersebut.

- i)
-
- ii)
-
- iii)
-

6. Lengkapkan rajah berikut yang berkaitan dengan jenis-jenis bank yang terdapat di Malaysia.



7. Maklumat berikut adalah contoh bank yang terdapat di Malaysia.

- Am Finance Berhad
- RHB Bank Berhad

Bezakan kedua-dua bank tersebut.

Am Finance Berhad	RHB Bank Berhad

8. Selain menyediakan kemudahan simpanan dan pinjaman, bank perdagangan juga menyediakan kemudahan pembayaran. Huraikan kemudahan pembayaran yang berikut:

a) Draf bank

- i)
- ii)

b) Perintah sedia ada

- i)
- ii)

c) Pindahan kredit

- i)
- ii)

d) Debit langsung

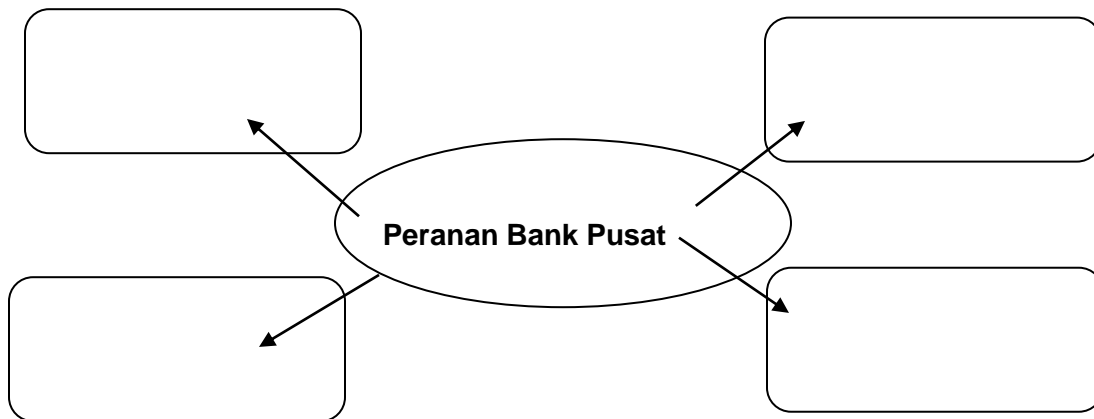
- i)
- iii)

e) Cek

i)

ii)

10. Lengkapkan carta berikut yang menunjukkan peranan Bank Pusat:



11. Maklumat berikut merujuk situasi ekonomi yang berlaku di sebuah Negara.

- Tingkat harga umum naik
- Jumlah permintaan melebihi jumlah penawaran

Merujuk situasi di atas, bulatkan tindakan yang sepatutnya diambil oleh bank pusat :

- i) Membeli surat jaminan kerajaan
- ii) Menaikkan kadar faedah
- iii) Menurunkan nisbah rizab tunai
- iv) Menurunkan nisbah rizab berkanun
- v) Memendekkan tempoh bayar balik pinjaman sewa beli

12. Skim Perbankan Islam menawarkan pelbagai pilihan produk berlandaskan hukum syarak kepada orang ramai. Terangkan konsep-konsep di bawah secara ringkas dengan memberikan contoh yang sesuai:

a) Bai At Takjiri

.....
.....

b) Wadiah

.....
.....

c) Bai Bithaman Ajil

.....
.....

13. Gambar berikut menunjukkan perbualan antara seorang pegawai bank dengan salah seorang pelanggannya.



Huraikan ketiga-tiga jenis simpanan yang disediakan oleh bank tersebut.

i) Akaun tabungan

.....
.....
.....

ii) Akaun tetap

.....

.....

.....

iii) Akaun semasa

.....

.....

.....

14. Perbualan berikut mengenai pinjaman yang dibuat oleh dua orang pelanggan bank.

Kim Seng	:	Baru-baru ni saya buat pinjaman peribadi di Bank Cempaka Berhad. Ada hal nak guna duit sikit
Ramdan	:	Saya pun ada buat pinjaman juga tapi saya buat pinjaman bercagar.

Huraikan dua jenis pinjaman yang dinyatakan dalam perbualan tersebut.

i) Pinjaman peribadi

.....

.....

.....

ii) Pinjaman bercagar

.....

.....

.....

15. Gambar berikut menunjukkan logo-logo institusi kewangan yang terdapat di negara kita.



- a) Nyatakan jenis institusi kewangan tersebut.

.....

.....

- b) Terangkan tiga peranan institusi kewangan tersebut dalam pembangunan ekonomi negara berdasarkan aspek berikut:

- i) Menggalakkan tabungan

.....

.....

- ii) Mengurangkan pinjaman luar negara

.....

.....

- iii) Menggalakkan pelaburan

.....

.....

- iv) Meningkatkan guna tenaga

.....

.....

16. Nyatakan sama ada pernyataan-pernyataan yang berikut betul atau salah:

Bil	Pernyataan	Betul/Salah
1	Bank Simpanan Nasional merupakan contoh bank perdagangan	
2	Semasa inflasi, penawaran melebihi permintaan	
3	Kemudahan overdraf hanya untuk pemegang akaun semasa	
4	Kadar faedah untuk deposit tetap lebih tinggi berbanding dengan deposit tabungan	
5	Syarikat kewangan menawarkan tiga jenis simpanan	
6	Bank saudagar hanya memberikan perkhidmatan kepada syarikat korporat	
7	AmMerchant Bank Berhad adalah contoh Syarikat Kewangan	
8	Saalah satu perkhidmatan yang disediakan oleh Bank Saudagar ialah menguruskan pinjaman bersindiket kepada pelanggannya	
9	Semasa infasi, Bank Pusat akan melonggarkan syarat sewa beli	
10	Penyimpan akaun tetap boleh mengeluarkan simpanannya pada bila-bila masa	

17. Berdasarkan jadual, senaraikan tiga ciri inflasi dan tiga ciri kemelesetan ekonomi.

Inflasi	Kemelesetan Ekonomi/Deflasi
1.	1.
2.	2.
3	3

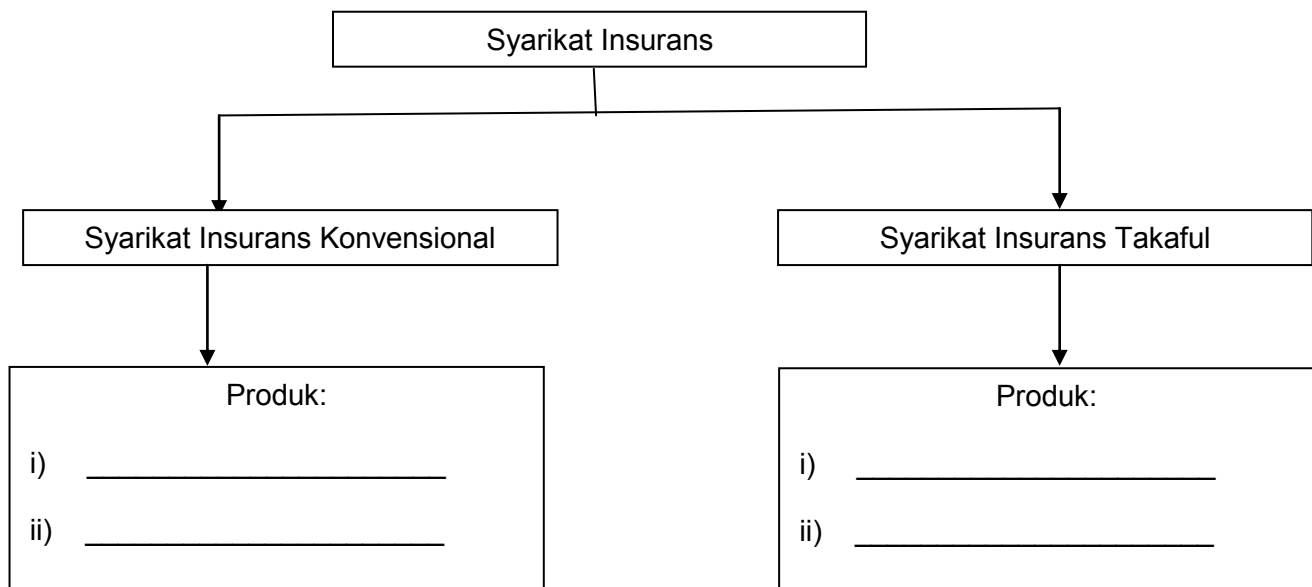
18. Senaraikan alat-alat kewangan yang digunakan oleh bank pusat untuk mengawal kestabilan ekonomi.

- a)
- b)
- c)
- d)
- e)

19. Berdasarkan alat-alat kewangan berikut, nyatakan bagaimana bank pusat mengawal inflasi dan kemelesetan ekonomi.

Alat-alat kewangan	Inflasi	Kemelesetan ekonomi
Kadar rizab tunai		
Kadar rizab berkanun		
Kadar faedah		
Syarat sewa beli		
Surat jaminan kerajaan		

20. Lengkapkan rajah berikut yang berkaitan dengan syarikat insurans yang terdapat di Malaysia.



CONTOH SOALAN SPM

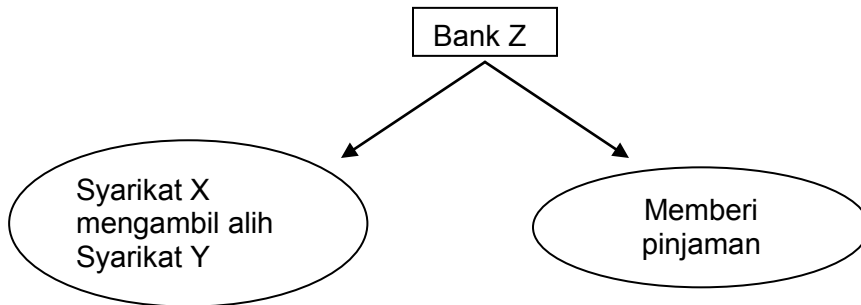
KERTAS SATU

SPM 2004

1. Encik Mat mempunyai deposit tetap berjumlah RM 100 000 di Maybank Berhad. Apakah fungsi wang dalam pernyataan itu?
A Alat ukuran nilai
B Alat bayaran tertunda
C Alat penyimpanan nilai
D Alat perantaraan pertukaran

2. Apakah kemudahan yang disediakan oleh bank perdagangan bagi mengurangkan penggunaan tunai untuk pelbagai urusan dalam negara?
 I cek
 II cek kembara
 III kad kredit
 IV kad juruwang elektronik
A I, II dan III
B I, II dan IV
C I, III dan IV
D II, III dan IV

3. Rajah 4 menunjukkan maklumat yang berkaitan bank Z.



RAJAH 4

Bank Z ialah

- A** Bank Pusat
- B** Bank Saudagar
- C** Bank Perdagangan
- D** Bank Simpanan Nasional

4. Maklumat berikut menunjukkan satu masalah yang harus diatasi.

Kerajaan dan pihak majikan dituntut menaikkan gaji para pekerja sebanyak 20% supaya kebajikan pekerja tidak terjejas. Kini sewa rumah telah pun meningkat 25% sejak 14 bulan lalu. Pengusaha bas awam pula telah menaikkan tambang sebanyak 50%.

Apakah langkah yang sepatutnya diambil oleh kerajaan untuk mengatasi masalah itu?

- I Mengurangkan perbelanjaan kerajaan
- II Mengurangkan kadar faedah
- III Meningkatkan kadar cukai pendapatan
- IV Menggalakkan firma menambahkan pelaburan
- A** I dan II
- B** I dan III
- C** II dan IV
- D** III dan IV

SPM 2005

1. Antara berikut, yang manakah ciri-ciri wang?
 - I Diyakini dan diterima umum
 - II Mempunyai penawaran yang terhad
 - III Menjadi alat simpanan nilai
 - IV Sebagai perantaraan pertukaran
 - A** I dan II
 - B** I dan IV
 - C** II dan III
 - D** II dan IV

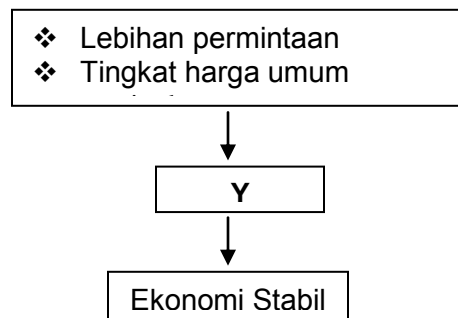
2. Antara berikut, yang manakah menyebabkan wang berfungsi sebagai alat bayaran tertunda?
 - A** Tahan lama
 - B** Mudah dibawa
 - C** Kestabilan nilai
 - D** Diterima umum

3. Wang dapat mengatasi masalah kehendak serentak dalam Sistem Barter. Fungsi wang yang dimaksudkan ialah sebagai alat
 - A** ukuran nilai
 - B** penstabil nilai
 - C** bayaran tertunda
 - D** perantaraan pertukaran

4. Semasa inflasi, bank pusat akan mengetatkan syarat sewa beli. Apakah kesan tindakan tersebut kepada pengguna?

- I Kadar faedah yang rendah dikenakan atas pinjaman
- II Ansuran bulanan dibayar lebih tinggi
- III Wang pendahuluan di bayar lebih tinggi
- IV Ansuran dijelaskan dalam tempoh lebih panjang
- A** I dan III
- B** I dan IV
- C** II dan III
- D** II dan IV

5. Y dalam Rajah 3 merujuk kepada tindakan yang diambil oleh kerajaan .



RAJAH 3

Apakah tindakan tersebut?

- I Menaikkan kadar faedah
 - II Menambahkan kadar cukai
 - III Menambahkan perbelanjaan kerajaan
 - IV Menaikkan kadar rizab tunai dan rizab berkanun
 - A** I, II dan III
 - B** I, II dan IV
 - C** I, III dan IV
 - D** II, III dan IV
6. Antara berikut, keadaan yang manakah membolehkan pencarum Kumpulan Wang Simpanan Pekerja (KWSP) mengeluarkan kesemua wang carumannya?
- I En. Halim telah diberhentikan kerja
 - II En. Siva telah meninggal dunia
 - III Puan Siti berhijrah ke Australia
 - IV En. Liew disahkan telah hilang upaya oleh doktor panel KWSP
 - A** I, II dan III
 - B** I, II dan IV
 - C** I, III dan IV
 - D** II, III dan IV

7. Pernyataan berikut merupakan sumbangan institusi kewangan bukan bank terhadap negara **kecuali**
- A** menggalakkan pelaburan
 - B** meningkatkan guna tenaga
 - C** mengurangkan pinjaman luar negara
 - D** mengawal kestabilan nilai mata wang

SPM 2006

1. Antara yang berikut, yang manakah menerangkan ciri deposit semasa?
- I Deposit semasa merupakan wang sah
 - II Pendeposit akan diberikan kemudahan overdraf
 - III Pengeluaran wang tertakluk kepada tempoh masa tertentu
 - IV Jumlah simpanan minimum adalah lebih tinggi daripada deposit tabungan
- A** I dan II
 - B** I dan III
 - C** II dan IV
 - D** III dan IV
2. Berikut adalah maklumat tentang Encik Mahmud

Encik Mahmud membeli sebuah rumah teres berharga RM 200,000. Dia membayar pendahuluan sebanyak RM 20 000 dan ansuran bulanan sebanyak RM 1 000 selama 20 tahun

- Apakah fungsi wang yang berkaitan dengan maklumat tersebut?
- I Alat perantaraan pertukaran
 - II Bayaran tertunda
 - III Unit ukuran nilai
 - IV Simpanan nilai
- A** I, II dan III
 - B** I, II dan IV
 - C** I, III dan IV
 - D** II, III dan IV
3. Maklumat berikut berkaitan dengan sebuah institusi kewangan bukan bank

- Premium ahli digunakan untuk membayar pampasan
- Ahli boleh membuat pinjaman

Namakan institusi kewangan itu.

- A** Syarikat Insurans
- B** Syarikat Kewangan
- C** Lembaga Tabung Haji
- D** Kumpulan Wang Simpanan Pekerja (KWSP)

4. Apakah tindakan yang boleh diambil oleh Bank Negara Malaysia untuk mengawal inflasi?
- I Mengetatkan syarat sewa beli
 - II Menjual surat jaminan kerajaan
 - III Menaikkan kadar faedah pinjaman
 - IV Menurunkan kadar rizab tunai dan rizab berkanun
- A** I, II dan III
 - B** I, II dan IV
 - C** I, III dan IV
 - D** II, III dan IV

SPM 2007

1. Antara yang berikut, yang manakah fungsi wang?
- I Diterima umum
 - II Alat bayaran tertunda
 - III Unit ukuran nilai
 - IV Boleh dibahagikan kepada unit yang lebih kecil
- A** I dan II
 - B** II dan III
 - C** III dan IV
 - D** I dan IV
2. Institusi kewangan yang menyediakan perkhidmatan jamin terbitan syer ialah
- A** bank pusat
 - B** bank Islam
 - C** bank saudagar
 - D** bank perdagangan

3. Maklumat berikut berkaitan dengan sejenis bank.

- Menyediakan kemudahan simpanan tabungan, semasa dan tetap
- Menyediakan kemudahan pinjaman

Bank yang menawarkan perkhidmatan tersebut ialah

- A** bank pusat
- B** bank saudagar
- C** bank perdagangan
- D** Bank Simpanan Nasional

4. Antara yang berikut, yang manakah kemudahan kepada pemegang akaun semasa?
- I Menerima kemudahan overdraf
 - II Menerima buku akaun simpanan
 - III Memperoleh kadar faedah yang tinggi
 - IV Membuat pembayaran menggunakan cek
- A** I dan II
B II dan III
C III dan IV
D I dan IV
5. Antara yang berikut, yang manakah fungsi bank pusat?
- I Mengeluarkan mata wang
 - II Menjadi jurubank kepada kerajaan
 - III Menerima deposit daripada orang ramai
 - IV Mengawal kestabilan nilai mata wang
- A** I, II dan III
B I, II dan IV
C I, III dan IV
D II, III dan IV
6. Perbualan berikut merujuk kepada satu masalah ketidakstabilan ekonomi yang dihadapi oleh sebuah negara

Ashraf : Permintaan ke atas barangan menurun kerana masyarakat kurang berbelanja

Ah Kow : Yalah, mereka kekurangan wang, yang menganggur pun semakin ramai

Bagaimanakah bank pusat di negara tersebut mengatasi masalah itu ?

- I Menurunkan nisbah rizab berkanun
 - II Melonggarkan syarat sewa beli
 - III Menjual surat jaminan kerajaan
 - IV Menaikkan kadar faedah
- A** I dan II
B II dan III
C III dan IV
D I dan IV

SPM 2008

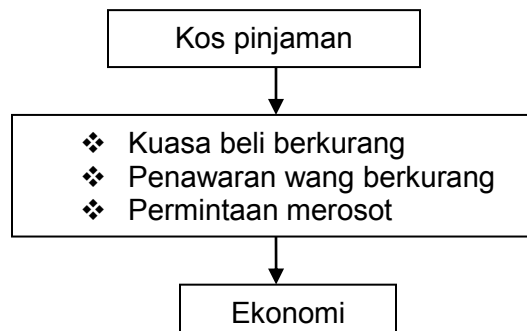
1. Maklumat berikut berkaitan dengan satu kelemahan sistem barter.

Urus niaga secara kredit tidak dapat dijalankan dalam

Apakah fungsi wang yang dapat mengatasi kelemahan di atas?

- A** Alat ukuran nilai
- B** Alat simpanan nilai
- C** Alat bayaran tertunda
- D** Alat perantaraan pertukaran

2. Rajah 4 menunjukkan kesan suatu tindakan yang dijalankan oleh kerajaan.



RAJAH 4

Apakah tindakan tersebut?

- A** Menaikkan kadar faedah
- B** Meningkatkan kadar rizab tunai
- C** Meningkatkan kadar rizab berkanun
- D** Memanjangkan tempoh pembiayaan

3. Apakah fungsi institusi kewangan bukan bank kepada perkembangan ekonomi negara?

- A** Menerima simpanan semasa
- B** Menanggung jamin terbitan syer
- C** Menjadi jurubank kepada kerajaan
- D** Menyediakan sumber dana dalam negara

4. Pilih pasangan yang benar.

	Institusi Kewangan Bukan Bank	Cara Menerima Deposit
A	Kumpulan Wang Simpanan Pekerja	Caruman daripada pekerja dan majikan
B	Lembaga Tabung Haji	Simpanan daripada orang ramai
C	Bank Simpanan Nasional	Deposit tetap, deposit semasa dan deposit tabungan
D	Syarikat Insurans	Pampasan yang dibayar oleh pemegang polisi.

SPM 2009

1. Pernyataan manakah yang menerangkan ciri wang?
 - A Bentuk yang seragam
 - B Diterima umum
 - C Nilai tidak stabil
 - D Permintaan terhad
2. Wang digunakan untuk mengatasi masalah kehendak serentak. Apakah fungsi wang tersebut?
 - A Ukuran nilai
 - B Simpanan nilai
 - C Bayaran tertunda
 - D Perantaraan pertukaran
3. Pernyataan manakah yang menunjukkan kemudahan yang dinikmati oleh pemegang akaun semasa?
 - A Kadar faedah yang diberi adalah lebih tinggi
 - B Pulangan faedah diperoleh setelah cukup tempoh matang
 - C Membuat pembayaran menggunakan cek
 - D Pemegang akaun akan diberi sijil
4. Apakah Skim Perbankan Islam yang membolehkan penyewa mengambil alih harta yang disewanya pada harga yang dipersetujui?
 - A Murabahah
 - B Musyarakah
 - C Bai At Takjiri
 - D Wadiah
5. Pernyataan manakah yang menerangkan fungsi bank pusat sebagai jurubank kepada bank perdagangan?
 - A Menjual dan membeli surat jaminan kerajaan
 - B Menjadi sumber pinjaman terakhir
 - C Memberi pendahuluan
 - D Mengurus pertukaran asing
6. Maklumat berikut berkaitan dengan satu keadaan ketidakstabilan ekonomi.

- | |
|---|
| <ul style="list-style-type: none"> • Stok barang berlebihan • Kadar pengangguran tinggi |
|---|

Apakah langkah yang perlu diambil oleh bank pusat untuk mengatasi masalah ketidakstabilan ekonomi tersebut?

- A Menurunkan nisbah rizab tunai
- B Menjual surat jaminan kerajaan
- C Mengetatkan syarat sewa beli
- D Menaikkan kadar faedah

SPM 2010

1. Pasangan manakah yang menunjukkan fungsi wang mengatasi masalah sistem barter?

	Fungsi Wang	Masalah Sistem Barter
A	Alat simpanan nilai	Masalah kehendak serentak
B	Alat perantaraan pertukaran	Kesukaran menilai harga barang
C	Alat bayaran tertunda	Urus niaga secara kredit sukar dijalankan
D	Alat ukuran nilai	Barang tidak tahan lama mengalami kemerosotan nilai

2. Ciri manakah yang menyebabkan wang berfungsi sebagai alat bayaran tertunda?

- A Tahan lama
- B Mudah dibawa
- C Diterima umum
- D Kestabilan nilai

3. Maklumat di bawah berkaitan dengan kemudahan pinjaman yang disediakan oleh bank perdagangan.

Puan Hilda mempunyai akaun semasa di sebuah bank perdagangan. Berikut adalah transaksi akaun beliau pada 10 April 2010.

Butiran	Jumlah (RM)
Baki dalam akaun	RM 2 500.00
Overdraf diluluskan	RM 5 000.00
Pengeluaran dilakukan	RM 4 000.00

Berapakah jumlah overdraf yang telah digunakan oleh Puan Hilda pada tarikh tersebut?

- A RM 1 000
 - B RM 1 500
 - C RM 4 000
 - D RM 5 000
4. Encik Husni membeli sebuah rumah yang berharga RM 150 000 dengan bayaran secara ansuran berasaskan satu prinsip dalam skim perbankan Islam. Apakah prinsip tersebut?
- A Musyarakah
 - B Mudharabah
 - C Wadiah
 - D Bai Bithaman Ajil

5. Tindakan bank pusat manakah yang dapat mengurangkan kuasa beli masyarakat?
- Menurunkan kadar rizab berkanun
 - Membeli surat jaminan kerajaan
 - Meningkatkan kadar faedah
 - Memanjangkan tempoh bayaran balik pinjaman
6. Maklumat berikut berkaitan dengan ciri satu institusi kewangan.

- Menggalakkan tabungan bagi golongan berpendapatan rendah
- Membeli surat jaminan kerajaan

Apakah institusi kewangan tersebut?

- Syarikat insurans
 - Bank perdagangan
 - Lembaga Tabung Haji
 - Bank Simpanan Nasional
7. Pekerjaan manakah yang diwajibkan mencarum dalam Kumpulan Wang Simpanan Pekerja?
- Juruteknik kilang
 - Peniaga di pasar
 - Pekebun kecil
 - Pemilik kedai tekstil

KERTAS DUA

SPM 2004

Soalan 4


- (a) Nyatakan **lima** ciri wang yang baik

[5 markah]

SPM 2005

Soalan 4

- (b) Gambar 3 menunjukkan iklan komputer daripada Syarikat Maju Jaya Sdn. Bhd.



GAMBAR 3

Terangkan fungsi wang dalam iklan itu.

[4 markah]



GAMBAR 4

- (c) Gambar 4 adalah perbualan antara seorang anak dengan bapanya.

Terangkan cara bank pusat mengawal keadaan ekonomi seperti yang dinyatakan dalam perbualan itu. [12 markah]

SPM 2006

Soalan 3

(b) Maklumat berikut merujuk kepada situasi ekonomi sebuah negara.

- Stok barangan berlebihan
- Kadar pengangguran meningkat

Huraikan **empat** cara bank pusat mengawal situasi ekonomi negara tersebut.

[12 markah]

(c) Jelaskan kemudahan overdraf yang disediakan oleh bank perdagangan.

[4 markah]

Soalan 4

(a) Huraikan **tiga** jenis simpanan yang disediakan oleh bank perdagangan.

[9 markah]

SPM 2007

Soalan 4

(b) Terangkan **dua** sumbangan institusi kewangan bukan bank kepada pembangunan ekonomi negara.

[4 markah]


SPM 2008

Soalan 4


(a) Huraikan tiga jenis wang yang terdapat dalam ekonomi.

[9 markah]

(b) Gambar 4 dan gambar 5 berkaitan dengan urus niaga barang.



Gambar 4



Gambar 5

(i) Jelaskan apakah sistem urus niaga dalam Gambar 4 dan Gambar 5?

[2 markah]

(iii) Jelaskan tiga kebaikan urus niaga dalam Gambar 4 berbanding Gambar 5

[3 markah]

- (c) Bank Pusat telah menurunkan kadar rizab tunai dan rizab berkanun.
- (i) Jelaskan maksud rizab tunai dan rizab berkanun. [2 markah]
- (ii) Jelaskan tiga kesan perubahan kadar rizab tersebut kepada bank perdagangan. [3 markah]
- (d) Jelaskan dua persamaan dan dua perbezaan Bank Simpanan Nasional (BSN) dengan Kumpulan Wang Simpanan Pekerja (KWSP). [6 markah]

SPM 2009

Soalan 3

- (c) Jelaskan perkhidmatan deposit semasa yang disediakan oleh bank perdagangan. [5 markah]
- (d) Maklumat berikut berkaitan dengan tabungan.

Encik Ammar mempunyai wang sebanyak RM 10 000. Dia menabung wangnya dalm deposit tabungan di Bank Simpanan Nasional.

Adakah anda bersetuju dengan jenis deposit yang dipilih oleh Encik Ammar?
Beri lima alasan. [6 markah]

SPM 2010

Soalan 3

- (c) Logo di bawah merujuk kepada sebuah institusi kewangan bank di Malaysia.



Terangkan **empat** fungsi institusi kewangan bank tersebut. [8 markah]

- (d) Terangkan **tiga** cara institusi kewangan bukan bank menerima deposit daripada orang ramai. [6 markah]

Soalan 4

- (b) Perbualan berikut berkaitan dengan satu keadaan ketidakstabilan ekonomi.

Wartawan	:	Apakah komen Yang Berhormat mengenai isu pemberhentian 60 ribu orang pekerja dalam industri pembuatan dan pembinaan?
Yang Berhormat	:	Isu ini sangat membimbangkan. Malah persatuan pengilang-pengilang juga berdepan dengan masalah lebihan stok. Kita perlu bersama-sama menangani masalah ini secara berkesan.

- (i) Tentukan keadaan ketidakstabilan ekonomi tersebut. [1 markah]
- (ii) Huraikan dua cara bank pusat mengatasi keadaan di 4 (b) (i). [6 markah]

SOALAN KAJIAN KES

Petikan Soalan 2004

Prestasi syarikat mula terjejas apabila ketiga-tiga negara itu mengalami masalah inflasi yang serius. Ini menyebabkan kos pengeluaran syarikat meningkat secara mendadak. Peningkatan ini mendorong syarikat menaikkan harga kereta keluarannya. Kenaikan ini menyebabkan tingkat harga umum dalam negara meningkat dan kuasa beli pengguna jatuh. Bagi menjaga kepentingan pengguna, persatuan pengguna telah menghantar memorandum supaya kerajaan mempertingkatkan tindakan berikut:

- (i) Menaikkan cukai jualan
- (ii) Menaikkan kadar faedah pinjaman
- (c) Adakah memorandum persatuan pengguna sesuai untuk mengatasi kenaikan tingkat harga umum dalam negara itu?
Berikan alasan anda. [5 markah]
- (d) Bagaimanakah bank pusat berperanan membantu menjayakan hasrat persatuan pengguna itu? [11 markah]

Petikan soalan 2010

Cik Maria menguruskan sendiri semua urusan pentadbiran di pusat tuisyennya. Ini menyebabkan dia kesuntukan masa untuk menjelaskan pembayaran bil air, elektrik dan sewa bangunan tepat pada masa yang ditetapkan. Dia berasa tertekan setelah menerima notis pemotongan bagi bil-bil yang tertunggak dan surat amaran daripada pemilik bangunan.

- (f) Terangkan tiga kemudahan pembayaran yang disediakan oleh bank perdagangan untuk menyelesaikan masalah pembayaran bil-bil Cik Maria. [6 markah]

Soalan tambahan

1. Puan Janet seorang pegawai perakaunan di sebuah syarikat swasta. Gaji bulanannya termasuk elaun ialah RM 4 500. Dia membuat caruman Kumpulan Wang Simpanan Pekerja dan membayar premium insurans nyawa sebanyak RM 200 sebulan. Puan Janet juga menabung dalam akaun tabungan di Bank Cemerlang Sdn Bhd.

Berdasarkan situasi di atas, jawab soalan berikut:

- (a) Kenal pasti jenis institusi kewangan yang terdapat dalam petikan di atas. [2 markah]
- (b) Bersetujukah anda dengan bentuk tabungan yang dibuat oleh Puan Janet.
Beri alasan anda. [5 markah]
- (c) Terangkan dua jenis simpanan lain yang ditawarkan oleh Bank Cemerlang Sdn Bhd. [4 markah]



2. Kenaikan harga barang yang berterusan telah menjejaskan kuasa beli orang ramai. Keadaan ini menyebabkan kerajaan mengarahkan Bank Negara menggunakan dua alat kewangan negara, iaitu dengan menurunkan kadar rizab berkanun dan kadar rizab tunai.

Berdasarkan situasi di atas, jawab soalan berikut:

- (a) Jelaskan **dua** alat kewangan yang terdapat dalam petikan tersebut. [6 markah]
- (b) Selain alat kewangan yang dinyatakan, terangkan **tiga** alat kewangan lain Yang boleh digunakan oleh Bank Negara. [9 markah]
- (c) Bersetujukah anda dengan tindakan yang diambil oleh Bank Negara? Beri alasan anda. [5 markah]

BAB 2 : EKONOMI MALAYSIA

STRUKTUR EKONOMI NEGARA

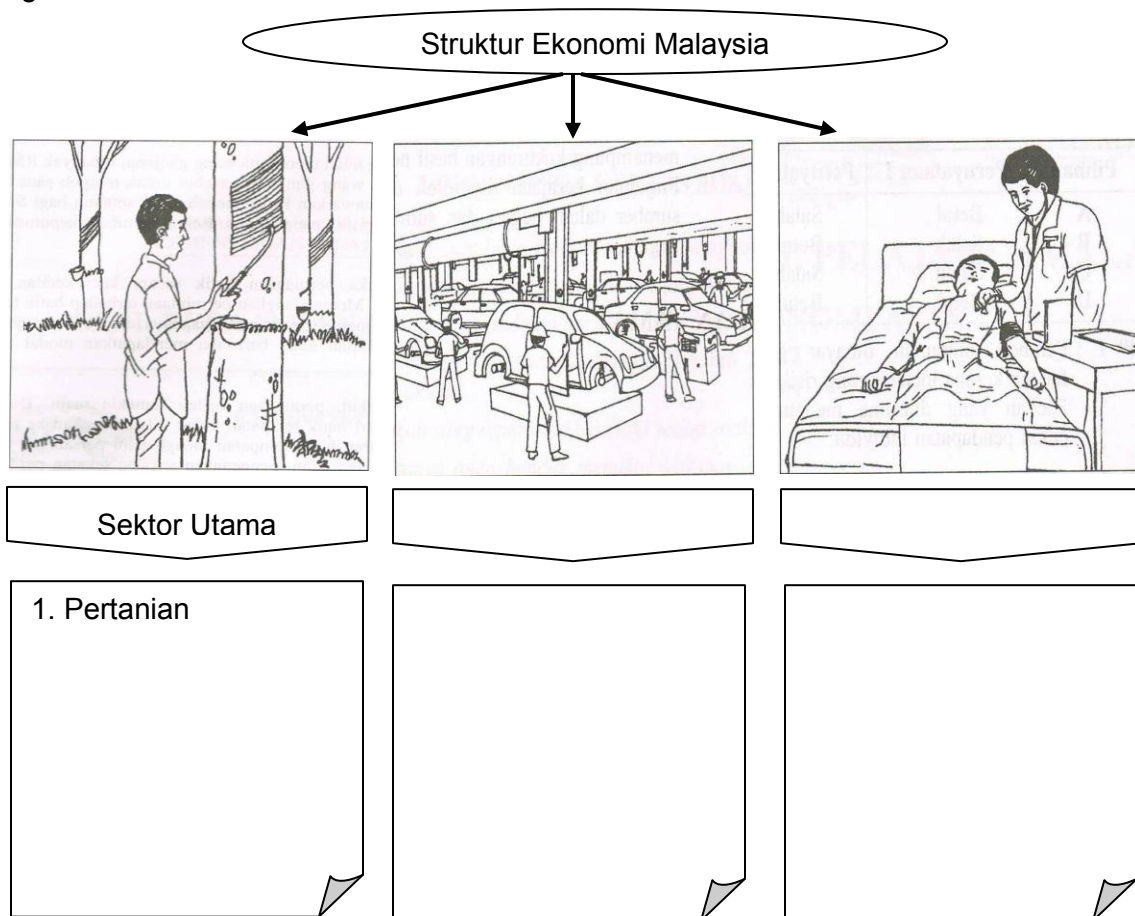
1. Apakah yang dimaksudkan dengan struktur ekonomi negara?

.....

.....

.....

2. Lengkapkan carta struktur ekonomi negara di bawah. Nyatakan Sektor dan Aktiviti ekonomi yang terlibat



Definisi Konsep

Sektor Utama ialah _____

 Sektor Kedua ialah _____

 Sektor Ketiga ialah _____

3. Lengkapkan rajah masalah pergantungan ekonomi kepada sektor utama di bawah.

Masalah Pergantungan Ekonomi pada Sektor Utama

Ketidakstabilan harga komoditi

4. Lengkapkan rajah kesan pergantungan ekonomi kepada sektor utama dari segi pendapatan negara dan guna tenaga.

Kesan Pergantungan Ekonomi Kepada Sektor Utama

Dari segi Pendapatan Negara

Dari segi Guna Tenaga

1. _____

2. _____

3. _____

1. _____

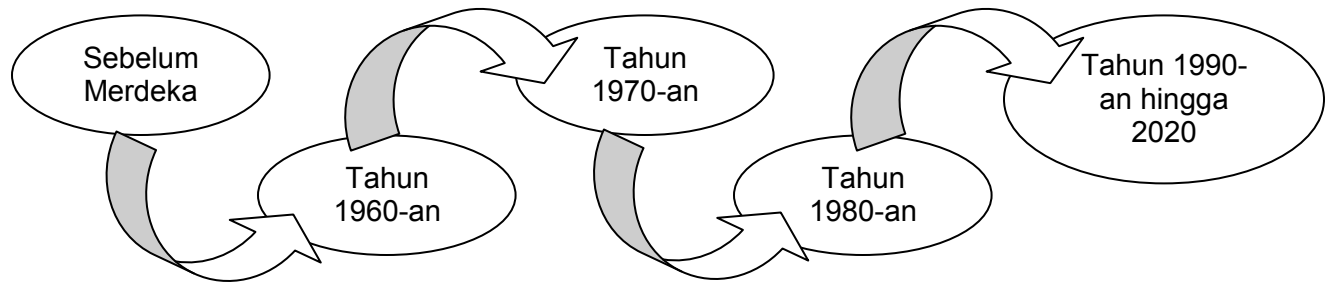
2. _____

3. _____

<http://edu.joshuatly.com/>

29

5. Carta di bawah menunjukkan Corak Perubahan Strukur Ekonomi Negara.



Dengan bantuan carta dan rajah di bawah nyata dan huraikan Faktor-Faktor yang Mempengaruhi Perubahan Strukur Ekonomi Negara.

Faktor - Faktor	Huraian
Kekhausan Sumber Asli Negara	
Peningkatan Dalam Pendapatan dan Taraf Hidup Penduduk	

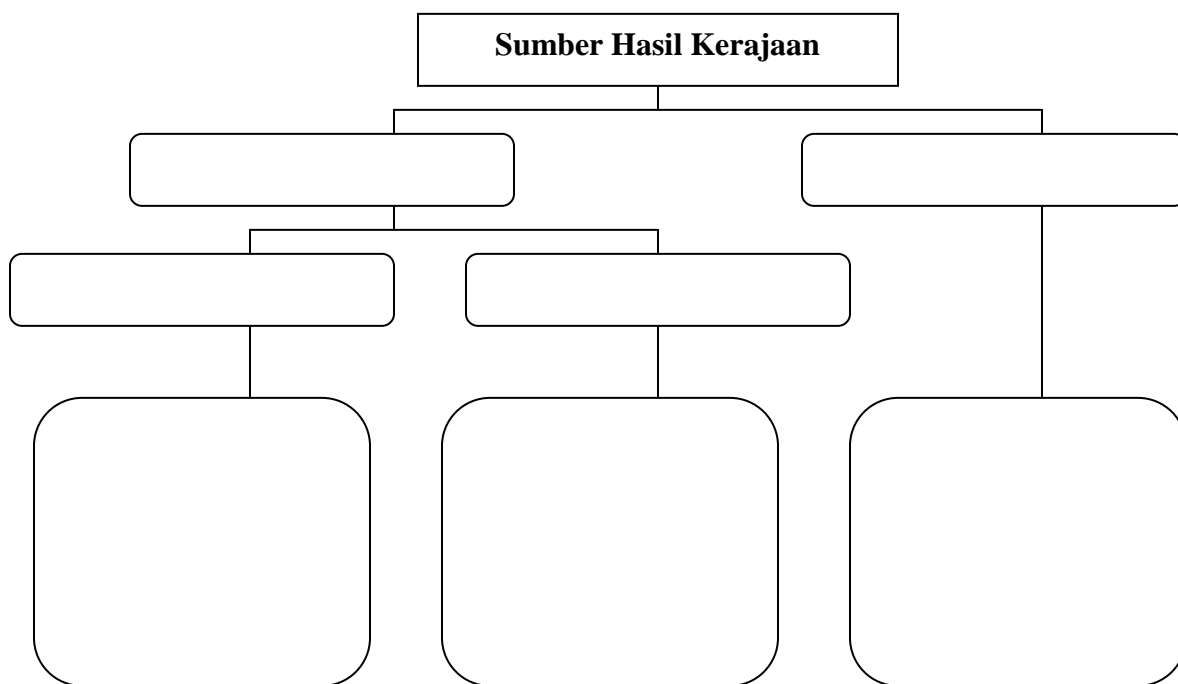
6. Dengan bantuan rajah di bawah nyata dan huraikan Kesan Perubahan Strukur Ekonomi Negara.

Kesan - Kesan	Huraian

BELANJAWAN NEGARA

1. Belanjawan Negara ialah

2. Lengkapkan jadual di bawah berkaitan dengan sumber hasil kerajaan. Berikan lima contoh bagi setiap hasil kerajaan



3. Terangkan konsep konsep berikut :

i) Belanjawan lebihan :

ii) Belanjawan kurangan :

iii) Belanjawan seimbang :

4. Nyatakan Jenis Belanjawan bagi Jumlah hasil dan Jumlah perbelanjaan bagi tahun 2007 hingga 2009.

Tahun	Hasil Kerajaan (RM juta)	Perbelanjaan Kerajaan (RM juta)	Jumlah Belanjawan
2007	66760	68780	
2008	75500	55780	
2009	67530	67530	

5. Nyatakan perbezaan antara Cukai langsung dengan Cukai tidak langsung.

Cukai Langsung	Aspek Perbezaan	Cukai Tak Langsung
	Definisi	
	Bentuk	
	Kekerapan	
	Contoh	

6. Padankan jenis cukai dengan maksudnya yang betul.

Duti eksais	Cukai ke atas keluaran utama yang dieksport
Cukai iualan	Cukai ke atas barang keluaran tempatan yang dijual di pasaran tempatan
Cukai perkhidmatan	Cukai yang dikenakan ke atas barang akhir keluaran tempatan dan luar negara
Duti eksport	Cukai yang dibayar oleh pemilik rumah untuk kemudahan prasarana dan perkhidmatan awam
Duti import	Cukai yang ditanggung sepenuhnya oleh pengguna ke atas perkhidmatan tertentu
Cukai pendapatan koperasi	Cukai yang dikenakan ke atas syarikat koperasi

7. Nyatakan perbezaan perbelanjaan mengurus dan perbelanjaan pembangunan daripada aspek- aspek berikut :

Perbelanjaan Mengurus	Aspek Perbezaan	Perbelanjaan Pembangunan
	Definisi	
	Sifat	
	Tujuan	

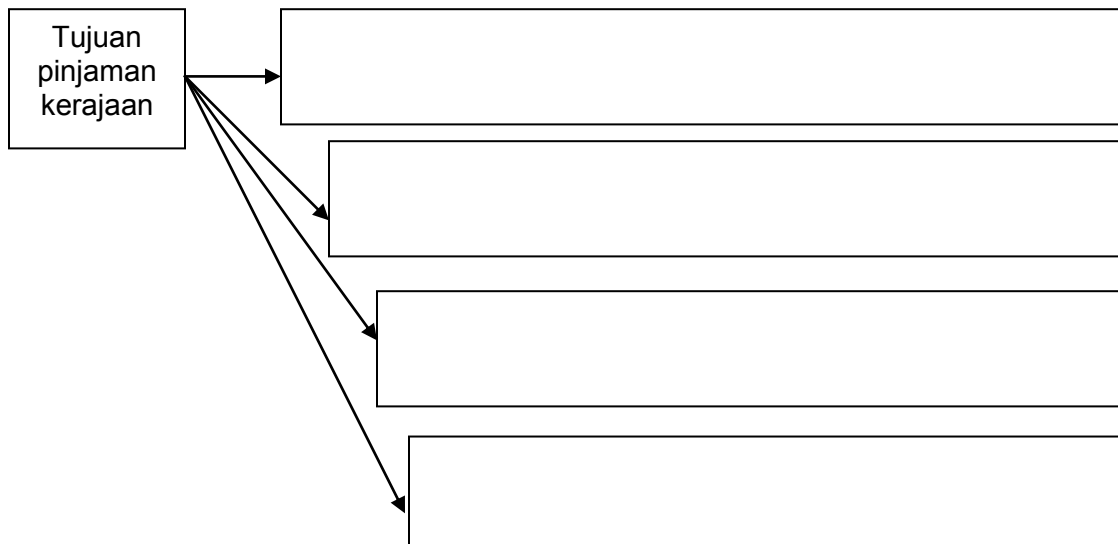
HUTANG NEGARA

1. Hutang Negara ialah
-
-

2. Nyatakan Sumber Pinjaman Dalam Negeri dan Sumber Pinjaman Luar Negara.

Pinjaman Dalam Negeri	Pinjaman Luar Negara

4.



3. Lengkapkan jadual Perbezaan Pinjaman Dalam Negeri dan luar Negeri di bawah

Pinjaman Dalam Negeri	Faktor-faktor	Pinjaman Luar negeri

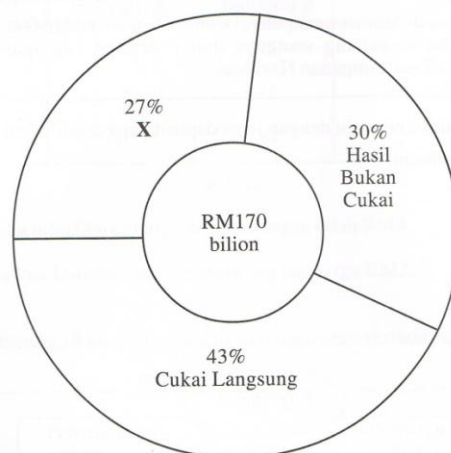
Contoh soalan Kertas 2 SPM

SPM 2005

5 (b) Terangkan lima jenis cukai tidak langsung (10 markah)

SPM 2009

- 4 (a) Huraikan **tiga** sektor ekonomi yang terdapat di Malaysia. (9 markah)
 (b) Carta pai di bawah menunjukkan sumber hasil kerajaan persekutuan pada tahun 2008.



Sumber: Ubah suai daripada Laporan Ekonomi 2007/2008

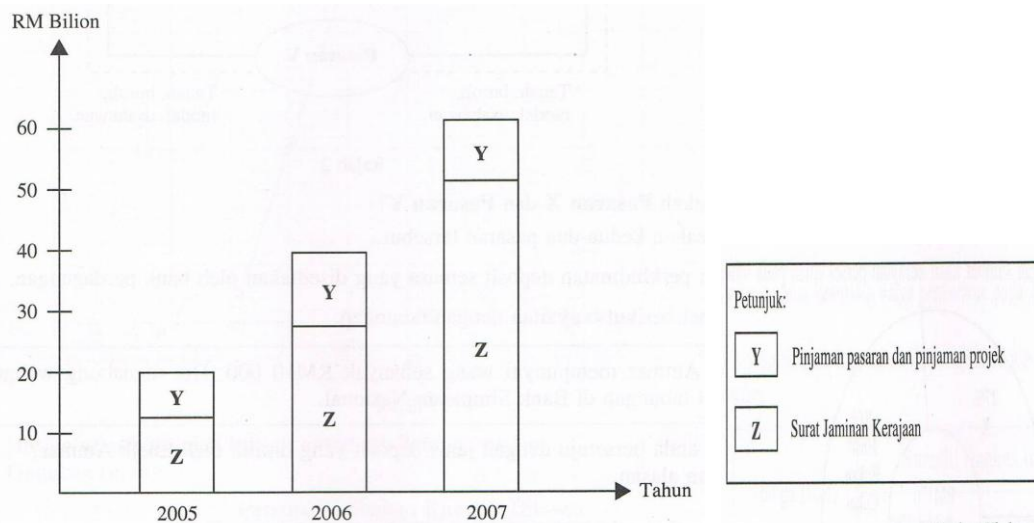
- (i) Hitung sumber hasil kerajaan yang diperolehi daripada hasil cukai. (2 markah)
 (ii) Terangkan **tiga** hasil kerajaan yang diperolehi daripada sumber X. (6 markah)

(c) Maklumat berikut berkaitan dengan satu keadaan ketidakstabilan ekonomi tersebut.

- Pertumbuhan ekonomi yang lembab
- Kadar pengangguran tinggi

Bagimanakah belanjawan negara dapat mengatasi keadaan ketidakstabilan ekonomi tersebut ?

(d) Carta palang di bawah menunjukkan pinjaman kerajaan persekutuan dari tahun 2005 hingga tahun 2007.



Sumber: Ubah suai daripada Laporan Ekonomi 2007/2008

- (iii) Apakah sumber **Pinjaman Y** ? (1 markah)
 (iv) Jelaskan **tiga** kelebihan meminjam daripada sumber Pinjaman Z. (3 markah)

Bagimanakah belanjawan negara dapat mengatasi keadaan ketidakstabilan ekonomi tersebut ?

SPM 2010

- 4 (a) Jadual di bawah menunjukkan peratus sumbangan sektor ekonomi kepada Keluaran Dalam Negara Kasar (KDNK) Malaysia bagi tempoh lima tahun

Tahun Sektor	Peratus (%)				
	2002	2003	2004	2005	2006
Sektor Utama	14.77	14.77	14.41	14.19	14.10
Sektor Kedua	31.03	31.63	32.12	31.91	31.68
Sektor Ketiga	54.20	53.60	53.47	53.90	54.22

Sumber: Ubah suai daripada Laporan Ekonomi pelbagai tahun

- (i) Terangkan **dua** sebab arah aliran sumbangan sektor utama bercorak sedemikian.
- (ii) Jelaskan arah aliran sumbangan sektor kedua dan sektor ketiga kepada ekonomi Malaysia.
- (c) Terangkan tiga tujuan kerajaan membuat pinjaman. (6 markah)
- (d) Bandingkan antara cukai langsung dengan cukai tak langsung (4 markah)

Contoh soalan SPM Kertas 1

SPM 2008

1. Contoh yang manakah merupakan cukai tidak angsung?
- Cukai tanah
 - Cukai pintu
 - Cukai kastam
 - Cukai setem
2. Maklumat berikut berkaitan dengan perbelanjaan pembangunan sesebuah negara.

Apakah jenis p

Kerajaan telah memperuntukan RM40 juta untuk membina sebuah hospital baru.

- Keselamatan
- Pentadbiran Am
- Perkhidmatan Sosial
- Perkhidmatan Ekonomi

SPM 2009

1. Pernyataan manakah yang merujuk kepada cukai eksais ?
 - A. Cukai ke atas keluaran utama yang dieksport
 - B. Cukai terhadap barangan yang dimport dari luar negara
 - C. Cukai kepada keluaran tempatan yang dijual dalam negara
 - D. Cukai bagi barangan akhir keluaran tempatan dan luar negara

2. Encik Zain dikenakan bayaran tambahan sebanyak 5% daripada kadar sewa hotel tempat dia Menginap. Apakah bayaran tambahan tersebut?
 - A. Cukai pintu
 - B. Cukai eksais
 - C. Cukai pendapatan
 - D. Cukai perkhidmatan

3. Mengapakah kerajaan mengutamakan pinjaman daripada sumber dalam negeri berbanding sumber luar negara?
 - A. Syarat pinjaman dalam negeri tidak fleksibel
 - B. Kadar faedah pinjaman dalam negeri lebih tinggi
 - C. Pinjaman dalam negeri tidak mudah terdedah kepada perubahan kadar pertukaran wang asing
 - D. Pinjaman dalam negeri menyebabkan lebih banyak pengaliran masuk mata wang asing

4. Y dalam rajah 3 merujuk kepada tindakan yang diambil oeh kerajaan untuk mengawal ketidakstabilan ekonomi.



Apakah tindakan tersebut ?

- A. Menaikkan kadar faedah
- B. Mengurangkan kadar cukai
- C. Menambahkan pebelanjaan kerajaan
- D. Mengurangkan kadar rizab tunai

SPM 2010

1. Jadual di bawah menunjukkan sebahagian Keluaran Dalam Negara Kasar (KDNK) pada tahun 2007.

Butiran	Jumlah (RM juta)
Pertanian	38595
Harta tanah dan perkhidmatan perniagaan	26616
Pembuatan	152262
Perlombongan dan kuari	42663
Pembinaan	15279

Berapakah jumlah sumbangan sektor utama pada tahun tersebut ?

- A. RM 38595
 - B. RM 81258
 - C. RM 107874
 - D. RM 190857
2. Pernyataan manakah yang menerangkan sektor ketiga ?
- A. Menghasilkan pelbagai jenis barang
 - B. Contoh pekerjaan ialah pemandu pelancong
 - C. Menggunakan sumber alam dalam proses pengeluaran
 - D. Merangkumi aktiviti pembinaan
3. Apakah tujuan kerajaan membuat pinjaman ?
- A. Menambah hasil kerajaan
 - B. Membiayai kelewatan kutipan hasil cukai
 - C. Meningkatkan jualan surat jaminan kerajaan
 - D. Mewujudkan hubungan ekonomi yang baik dengan rakan dagang

4. Jadual di bawah menunjukkan anggaran hasil kerajaan persekutuan bagi tempoh satu tahun.

Sumber Hasil	RM (juta)
Cukai pendapatan individu	11 735
Duit Import	863
Lesen/Permit	5 708
Cukai pendapatan koperasi	3 513
Perkhidmatan/Bayaran	708
Duti eksais	4 349

Berapakah jumlah anggaran hasil kerajaan daripada cukai tidak langsung pada tahun tersebut ?

- A. RM 8 75
- B. RM 11 821
- C. RM 18 237
- D. RM 20 546

BAB 3: HBUNGAN EKONOMI ANTARABANGSA

1. Perdagangan antarabangsa ialah

.....

.....

2. Dengan bantuan rajah di bawah nyata dan huraikan lima sebab wujudnya perdagangan antarabangsa

Sebab	Huraian
<div style="border: 1px solid black; padding: 5px; margin-bottom: 10px; text-align: center;">Sebab</div> <div style="border: 1px solid black; padding: 10px; text-align: center;">Perbezaan Sumber Semulajadi</div>	<div style="border: 1px solid black; padding: 5px; margin-bottom: 10px; text-align: center;">Huraian</div> <div style="border: 1px solid black; height: 40px;"></div>
<div style="border: 1px solid black; height: 40px;"></div>	<div style="border: 1px solid black; height: 40px;"></div>
<div style="border: 1px solid black; height: 40px;"></div>	<div style="border: 1px solid black; height: 40px;"></div>
<div style="border: 1px solid black; height: 40px;"></div>	<div style="border: 1px solid black; height: 40px;"></div>
<div style="border: 1px solid black; height: 40px;"></div>	<div style="border: 1px solid black; height: 40px;"></div>

Urus niaga A

Syarikat A mengeluarkan ubat - ubatan tradisional yang dijual ke seluruh Negara termasuklah Sabah dan Sarawak.

Urus niaga B

Syarikat B juga mengeluarkan ubat-ubatan tradisional dan dijual ke luar Negara seperti USA dan Jerman.

3. Maklumat diatas menjelaskan terdapat persamaan dan perbezaan antara urus niaga A dan urus niaga B. Jelaskan perbezaannya berdasarkan aspek - aspek yang berikut :

Urus Niaga A	Aspek Perbezaan	Urus Niaga B
	Pasaran	
	Mata Wang	
	Sekatan perdagangan	
	Dokumen	
	Sempadan perdagangan	
	Jarak dan Kos	

4. Lengkapkan rajah di bawah :

	Kategori	Contoh
Import nampak Malaysia	(i) (ii) (iii)	(i) (ii) (iii)
Import tak nampak Malaysia	(i) (ii) (iii)	(i) (ii) (iii)

5. Huraikan lima kebaikan perdagangan antarabangsa.

- i)
-
- ii)
-
- iii)
-

iv)

.....

v)

.....

6. Huraikan lima keburukan perdagangan antarabangsa.

i)

.....

ii)

.....

iii)

.....

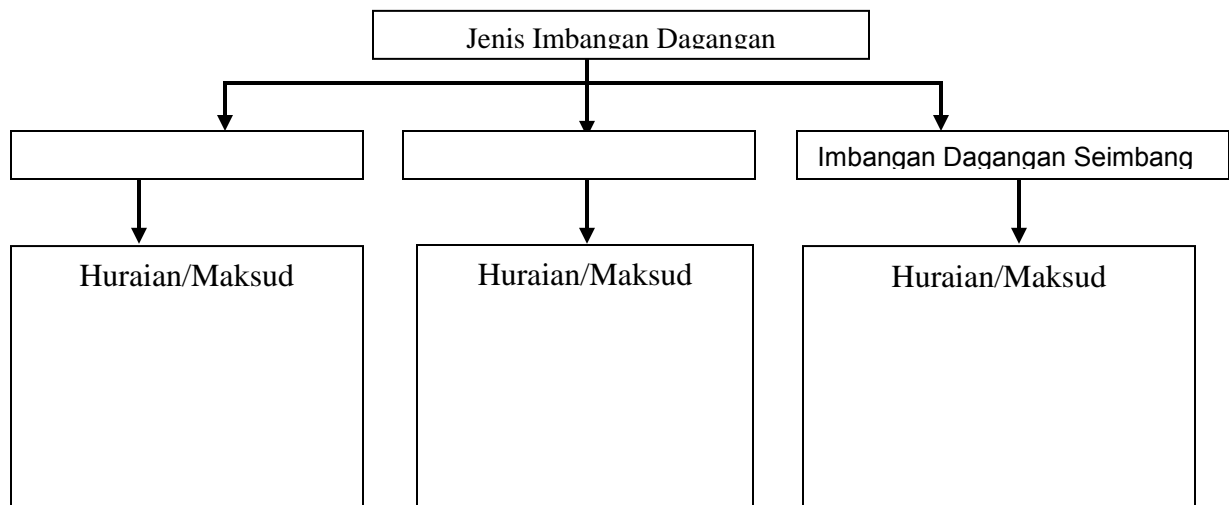
iv)

.....

v)

.....

7. Lengkapkan rajah di bawah dengan jenis-jenis imbalan dagangan dan huraianya:



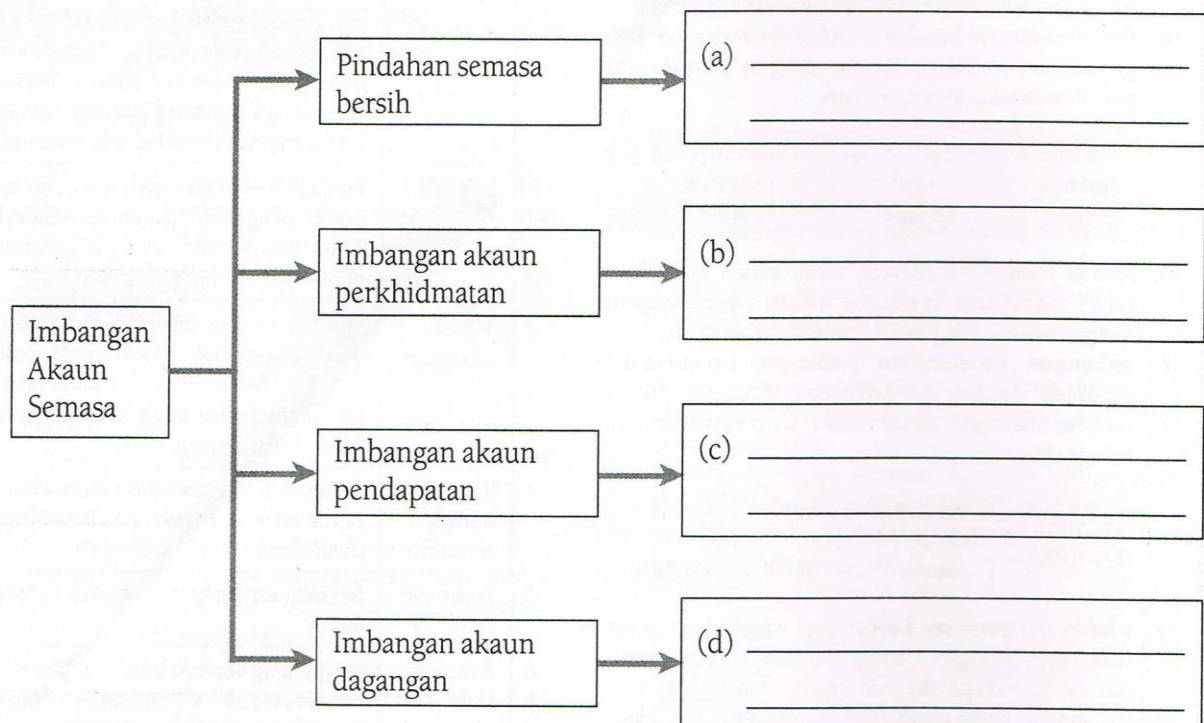
8. i. Imbalan Pembayaran ialah.....

.....

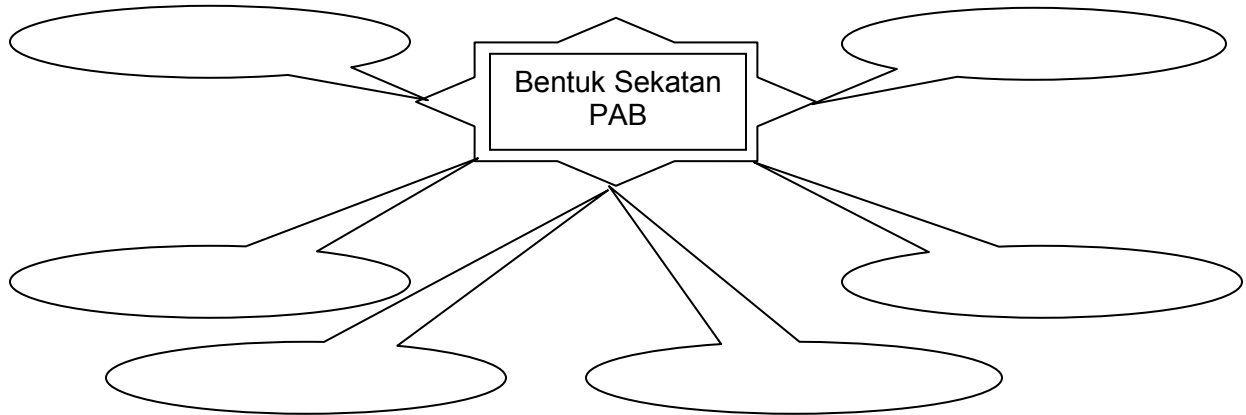
.....

.....

ii. Nyatakan rumus bagi perkara-perkara berikut :



9. Bentuk sekatan PAB



10. Senaraikan tujuan atau sebab kerajaan mengenakan sekatan PAB

- i)
- ii)
- iii)
- iv)
- v)
- vi)
- vii)

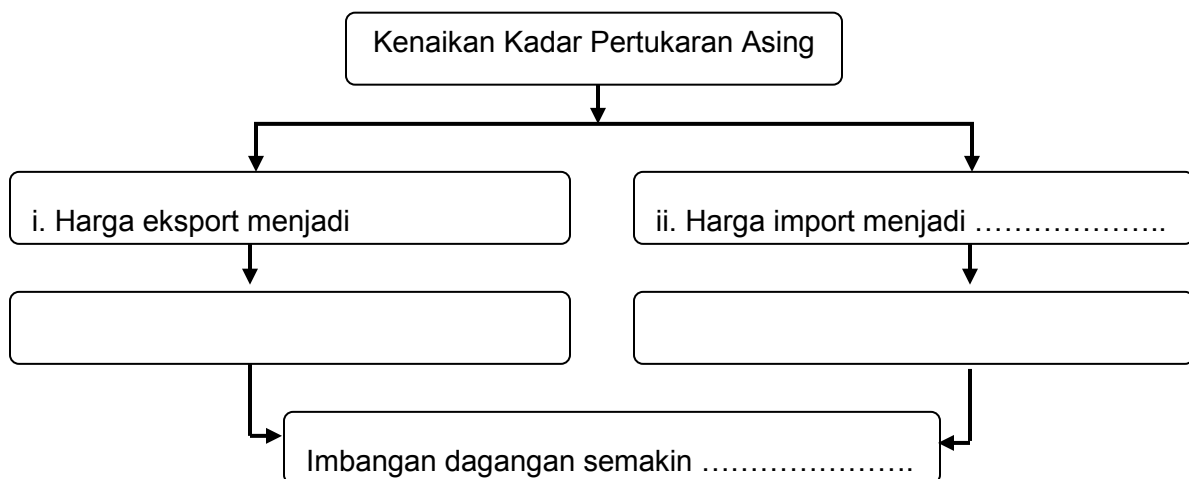
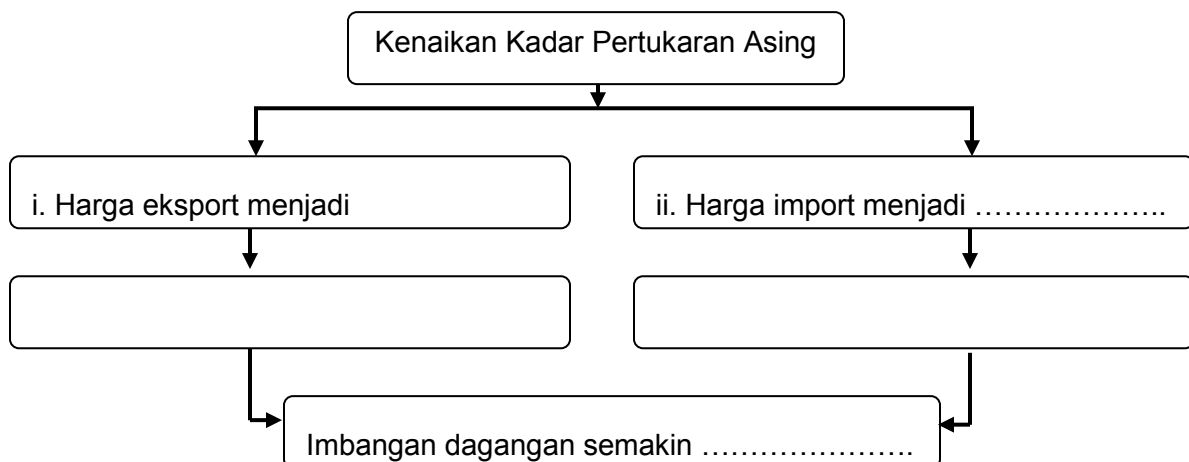
PERTUKARAN ASING

1. Pertukaran asing ialah
-
-

2. Nyatakan kepentingan pertukaran asing

- i)
- ii)
- iii)
- iv)
- v)

3. Lengkapkan rajah berikut bagi menunjukkan kesan perubahan eksport dan import kepada kadar pertukaran asing



9. Contoh Soalan SPM Kertas 2

SPM 2006

5 (b) Terangkan lima kebaikan perdagangan antarabangsa (10markah)

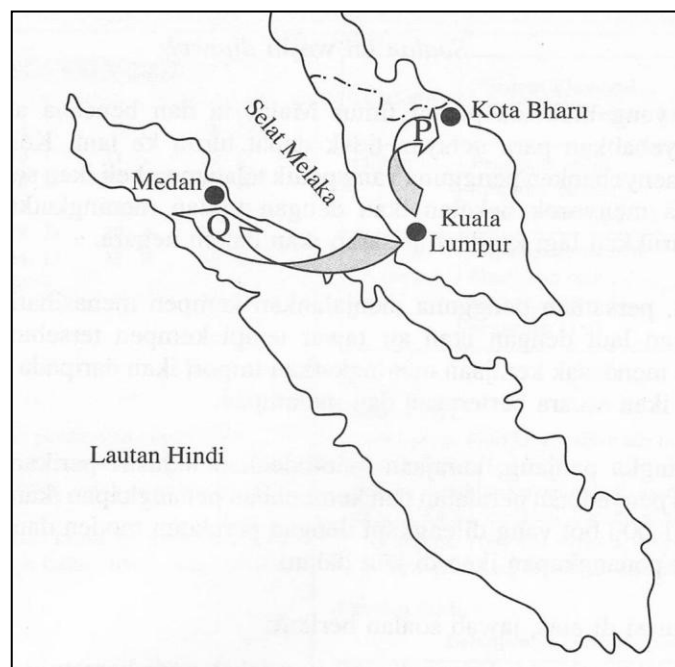
(c) Jadual 5 menunjukkan maklumat imbalanpembayaran sebuah negara dalam tempoh setahun.

Butiran	RM (juta)
Perjalanan	70
Eksport kayu balak	600
Tambang dan insurans	-590
Import kereta	400
Pindahan bersih	-70
Import jentera	300
Pengangkutan	-40
Eksport sawit	500
Pelancongan	-110
Dividen	-50

Hitungkan imbalan akaun semasa (7markah)

SPM 2009

5 (a) Peta 1 menunjukkan dua urus niaga bagi Syarikat Mutiara yang beribu pejabat di Kuala Lumpur.



2. Tentukan jenis perdagangan bagi **urus niaga P** dan **urus niaga Q**.
(2 markah)
 3. Bezakan kedua-dua jenis perdagangan tersebut. (4 markah)
- (b) Terangkan **tiga** bentuk sekatan perdagangan antarabangsa yang memberi perlindungan kepada industri tempatan. (6 markah)

10. Contoh Soalan SPM Kertas 1

SPM 2008

1. Antara yang berikut yang manakah kepentingan pertukaran asing bagi sebuah negara ?
 - I. Membiayai import
 - II. Membiayai eksport
 - III. Menambah pelaburan dalam negara
 - IV. Membayar balik pinjaman projek
 - A I dan II
 - B I dan IV
 - C II dan III
 - D III dan IV
2. Maklumat berikut berkaitan dengan kadar pertukaran asing antara Ringgit Malaysia dengan Dolar Singapura.

$\text{RM } 3.50 = \text{S\$}1.00$

Berapakah nilai barang dalam Ringgit Malaysia jika harga barang ialah S\$ 8750.00 ?

- A RM 31 700
- B RM 31 670
- C RM 30 625
- D RM 29 300

SPM 2009

1. Jadual di bawah menunjukkan eksport dan import Malaysia pada suatu tahun.

Perkara	Jumlah (RM juta)
Eksport minyak sawit	9 948
Eksport gas asli cecair	11 300
Eksport barang pembuatan	317 937
Import barang modal	47 064
Import barang perantaraan	230 611

Apakah keadaan imbalan dagangan Malaysia pada tahun tersebut ?

- A. Lebihan RM 61 510 juta
 - B. Kurangan RM 61 510 juta
 - C. Kurangan RM 339 185 juta
 - D. Lebihan RM 339 185 juta
2. Pernyataan manakah yang menerangkan tujuan kuota dikenakan dalam perdagangan antarabangsa ?
- A. Melindungi industri tempatan
 - B. Meningkatkan penawaran barangan import
 - C. Menjamin keselamatan negara
 - D. Menambah hasil kerajaan

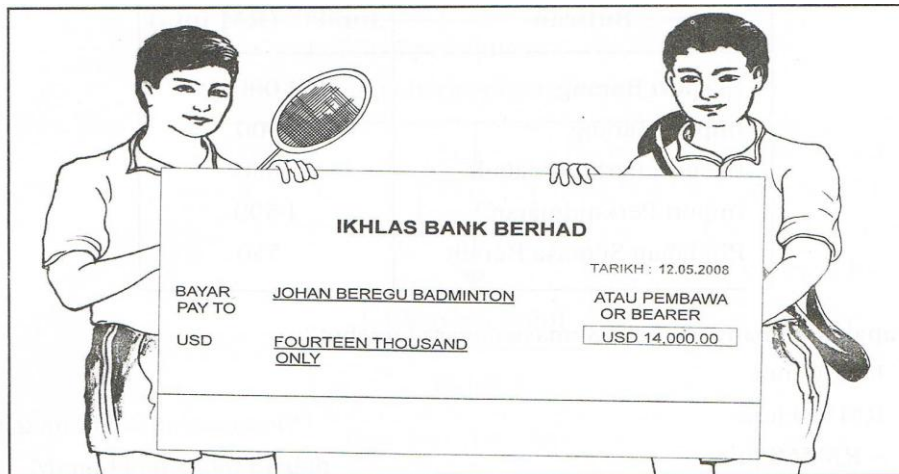
- (ci) Maklumat berikut menunjukkan butiran akaun semasa sebuah negara.

Perkara	Jumlah (RM juta)
Eksport Barang	1 000
Import Barang	900
Eksport Perkhidmatan	800
Import Perkhidmatan	1 500
Pindahan Semasa Bersih	550

Berapakah imbalan akaun semasa negara tersebut ?

- A. RM 30 juta
- B. RM 100 juta
- C. - RM 560 juta
- D. - RM 620 juta

4. Situasi manakah yang mewujudkan permintaan terhadap Ringgit Malaysia ?
- I. Pelabur Korea membuat pelaburan di Malaysia
 - II. Jepun mengimport minyak sawit dari Malaysia
 - III. Rakyat Malaysia menyewa kapal kargo China
 - IV. Rakyat Malaysia melancong ke Turki
- A I dan II
 - B I dan IV
 - C II dan III
 - D III dan IV
5. Gambar 3 di bawah menunjukkan replika cek yang diterima oleh johan beregu pertandingan badminton.



Gambar 3

Jika USD1=RM3.50, berapakah jumlah Ringgit Malaysia yang diperolehi mereka?

- A. RM 4 000
- B. RM 4 900
- C. RM 40 000
- D. RM 49 000

6. Maklumat berikut berkaitan dengan perubahan kadar pertukaran asing antara Amerika Syarikat dengan Malaysia.

Tahun	Kadar Pertukaran
2007	USD1 = RM3.80
2008	USD1 = RM3.40

Apakah kesan perubahan tersebut ke atas eksport dan import Malaysia pada tahun 2008?

	Eksport	Import
B	Meningkat	Meningkat
B	Menurun	Meningkat
C	Menurun	Menurun
D	Meningkat	Menurun

SPM 2010

- Mengapakah kerajaan mengenakan kuota terhadap barang import?
 - Meningkatkan pendapatan negara
 - Mengurangkan daya saing barang tempatan
 - Melindungi industri muda dan tempatan
 - Meluaskan pilihan pengguna
- Maklumat berikut berkaitan dengan kadar pertukaran asing antara Dolar Amerika (USD) dengan Ringgit Malaysia (RM).

USD 1.00 = RM 3.80

Situasi manakah yang benar tentang kadar pertukaran asing tersebut ?

- Pelajar Malaysia memerlukan RM58 untuk membeli buku berharga USD15
- Pengimport Malaysia memerlukan RM152000 untuk membeli jentera berharga USD40 000
- Pelancong Amerika memerlukan USD20000 untuk membeli kereta berharga RM70 000
- Pelancong Amerika memerlukan USD7000 untuk menyewa kilang berharga RM25 000

Soalan kes

Encik Haikal memulakan perniagaan dalam industri pembuatan pakaian kanak-kanak dengan menggunakan modal sendiri. Apabila perniagaannya berkembang, dia memerlukan lebih banyak modal. Saudara mara mengesyorkan pelbagai sumber pinjaman kepadanya. Keadaan ini menyebabkan Encik Haikal berasa keliru dan tidak dapat menentukan sumber pinjaman yang terbaik kepada syarikat.

Setelah empat tahun beroperasi, Encik Haikal membuat keputusan untuk mempelbagaikan jenis pakaian kepada pakaian lelaki dan wanita. Oleh itu, beliau telah memohon dana daripada Kementerian Pembangunan Usahawan sebanyak RM800 ribu tetapi RM650 ribu sahaja yang diluluskan tanpa dikenakan kadar faedah. Bagi menampung kekurangan RM150 ribu, beliau mendapatkan pinjaman daripada institusi kewangan dan dikenakan kadar faedah sebanyak 7 peratus. Encik Haikal berpendapat tindakan institusi kewangan tersebut tidak sepatutnya berlaku kerana syarikat telah menyokong dasar kerajaan untuk meningkatkan potensi Perusahaan Kecil dan Sederhana (PKS) sebagai pemangkin pertumbuhan ekonomi negara.

Bagi memastikan pengeluaran berjalan dengan lancar, Encik Haikal telah menaikkan upah pekerja sebanyak 25 peratus di samping menyediakan suasana tempat kerja yang lebih selesa. Tindakan ini menyebabkan para pekerja bekerja lebih bersungguh-sungguh. Kesannya jumlah keuntungan syarikat meningkat sebanyak 60 peratus dalam tempoh setahun. Perkembangan ini mendorong beliau untuk memasarkan produknya ke pasaran antarabangsa. Terdapat dua buah syarikat pengimport yang berminat dengan keluaran perusahaan Encik Haikal. Maklumat berikut menunjukkan jenis pakaian, harga, kuantiti dan kadar pertukaran asing bagi dua buah negara.

Pengimport	Jenis Pakaian	Harga Pakaian (RM)	Kuantiti ('000 helai)
OldMill Sdn. Bhd., Amerika Syarikat	Kanak-kanak Lelaki	40.00	200
		50.00	300
Franzye Colours Sdn. Bhd., Britain	Wanita	55.00	500

Kadar Pertukaran Asing
RM3.80 = USD1.00
RM7.20 = £1.00

Pada masa yang sama, Encik Haikal sebagai Pengerusi Persatuan Pengeluar Pakaian Kebangsaan mendesak kerajaan agar menaikkan cukai import pakaian dan berharap mendapat pertimbangan yang sewajarnya bagi mengukuhkan industri pakaian negara.

Berdasarkan situasi tersebut, jawab soalan-soalan berikut:

- Hitungkan nilai eksport pakaian ke Amerika Syarikat dalam sebutan dolar Amerika (USD) dan Britain dalam sebutan pound (£). [6 markah]
- Negara manakah memberi pulangan keuntungan yang tinggi kepada syarikat Haikal? Beri alasan anda. [2 markah]



Jelaskan kesan kepada pihak berikut sekiranya kerajaan melaksanakan desakan Persatuan Pengeluar Pakaian Kebangsaan.
[5 markah]